

Prénom :

Date : 04/06/2020

papap

1

Ecris les mots qui correspondent aux dessins :

Je vois

ill ill il il  
une feuille un réveil  
i i un cahier  
y y un crayon

J'entends



-aille

une murailleIl batte.une bataille

-ail

un vitrailde l'ailun rail

-ille

une chenilleune filleune bille

-eille

une oreilleune bouteilleune abeille

-eil

un orteil

-euille

une feuille

-euil

un fauteuilun chevreuil

-i-

un pianoun pion





(ill...)

Prénom : \_\_\_\_\_

Date : \_\_\_\_\_

04/06/2020

J'ai soigné mon travail

très peu un peu beaucoup



... [j]



y

Étude du code



-ay- / -oy- / -uy-

1 **Entoure** le mot qui correspond à chaque dessin.



yaourt

voyageur



balayer

pyjama



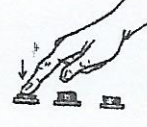
rayé

rêvé



abonner

aboyer



appeler

appuyer

2 **Barre** l'intrus.



rayure

noyer

voyou



tuyau


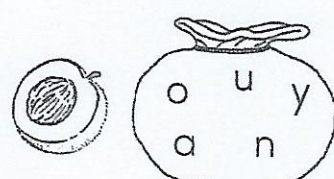
crayon

3 **Complète** la phrase avec les mots suivants :

crayon nettoyé essuyé

J'ai nettoyé mon crayon, puis je l'ai essuyé.

4 **Écris** le mot en assemblant les lettres qui sont dans le sac.

un crayonpayerun noyau

5 **Compète** les mots avec les propositions suivantes.

oyau ayó ayá uyan oya

du hayakun royaumede la mayonnaiseC'est incroyable !Tu es bruyante !



Prénom :

Date : 04/06/2020.

Je vois

• ill ill • il il  
une feuille un réveil

• i i un cahier

• y y un crayon

J'entends



Découpe et colle les images dans la bonne colonne.

1

J'entends [eil]			
J'entends [euil]		J'entends [ille]	
J'entends [ail]		J'entends [ouille]	




# Syllabes magiques n°1

deux difficultés: li et lu



Erreurs



Prénom : \_\_\_\_\_  
Date : 04/06/2020.

la  
bleu

li  
marron

lu  
vert

lo  
jaune







# Déplacements dans les cases

Géométrie

Regrouper des informations

Fiche n° 5

lundi mardi mercredi jeudi vendredi samedi dimanche

04/06/2020

**1** Trace le chemin de la dame jusqu'à sa voiture.

Puis décris le chemin dessiné. ----->



1	2	3	4	5	6
3 ←	3 ↑	1 →	1 ↓	2 →	1 ↑




1	2	3	4	5	6	7
1 ↑	4 ←	2 ↑	1 →	1 ↑	3 →	1 ↓

**2** Trace le chemin du bricoleur jusqu'à sa boîte à outils.

Puis décris le chemin dessiné. ----->



1	2	3	4	5	6	7	8
1 →	2 ↓	1 ←	2 ↓	3 →	3 ↑	2 →	2 ↑




1	2	3	4	5	6
3 ↑	2 →	3 ↓	2 →	1 ↑	1 →



## Additions de 2 nombres à 2 chiffres sans retenue - CP

$$\begin{array}{r} \text{d u} \\ 11 \\ + 76 \\ \hline = 87 \end{array}$$

$$\begin{array}{r} \text{d u} \\ 48 \\ + 31 \\ \hline = 79 \end{array}$$

$$\begin{array}{r} \text{d u} \\ 31 \\ + 63 \\ \hline = 94 \end{array}$$

$$\begin{array}{r} \text{d u} \\ 54 \\ + 32 \\ \hline = 86 \end{array}$$

$$\begin{array}{r} \text{d u} \\ 44 \\ + 13 \\ \hline = 57 \end{array}$$

$$\begin{array}{r} \text{d u} \\ 68 \\ + 31 \\ \hline = 99 \end{array}$$

$$\begin{array}{r} \text{d u} \\ 12 \\ + 25 \\ \hline = 37 \end{array}$$

$$\begin{array}{r} \text{d u} \\ 12 \\ + 25 \\ \hline = 37 \end{array}$$

$$\begin{array}{r} \text{d u} \\ 71 \\ + 14 \\ \hline = 85 \end{array}$$

$$\begin{array}{r} \text{d u} \\ 62 \\ + 12 \\ \hline = 74 \end{array}$$

$$\begin{array}{r} \text{d u} \\ 36 \\ + 52 \\ \hline = 88 \end{array}$$

$$\begin{array}{r} \text{d u} \\ 77 \\ + 11 \\ \hline = 88 \end{array}$$

$$\begin{array}{r} \text{d u} \\ 45 \\ + 24 \\ \hline = 69 \end{array}$$

$$\begin{array}{r} \text{d u} \\ 71 \\ + 17 \\ \hline = 88 \end{array}$$

$$\begin{array}{r} \text{d u} \\ 22 \\ + 74 \\ \hline = 96 \end{array}$$



# Connaissance des nombres

- comprendre et déterminer la valeur des chiffres en fonction de leur position dans un nombre
- distinguer dizaines et unités

04/06/2020

Découpe et colle les étiquettes dans la maison qui convient.

**Maison des unités**

5	2	6
	4	7
9		
1	8	3

**Maison des dizaines**

80	20	70
	50	30
	90	
10	40	60