



Sens des opérations

Rechercher une donnée dans le dessin.
Identifier la situation initiale.

Problèmes

Fiche n°

lundi mardi mercredi jeudi vendredi samedi dimanche




/ /

1

petit



J'entoure les données utiles, je prends des informations dans le dessin, je dessine, puis je réponds.




Loanne doit préparer 4 vases comme celui-là.

♥ **Combien de fleurs lui faudra-t-il ?**



♣ Il lui faudra _____ fleurs.

2




Antonin a rangé la vaisselle, il a cassé 3 assiettes, voici les assiettes qu'il reste.

♥ **Combien y avait-il d'assiettes avant ?**



♣ Il y avait _____ assiettes.

3



Dans cet enclos, il y avait 12 moutons. Cette nuit des moutons se sont échappés, voici ceux qui restent.

♥ **Combien de moutons se sont échappés ?**



♣ _____ moutons se sont échappés.