

Écriture littérale des nombres de 40 à 49.

Complète le tableau :

40	...
...	Quarante et un
42	...
43	...
44	...
...	Quarante-cinq
46	...
47	...
...	Quarante-huit
49	...



Sens des opérations  
Identifier la situation finale  
et intermédiaire.

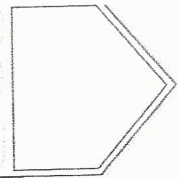
Problèmes

Fiche n°

lundi mardi mercredi jeudi vendredi samedi dimanche



/ /




1

petit



J'entoure dans le texte ce dont j'ai besoin.




Lilou a mis 15 balles dans la boîte.  
Inès ajoute des balles.  
Il y a 20 balles maintenant.

♥ Combien en a-t-elle ajouté ?

◆

✦ Inès a ajouté \_\_\_\_ balles.

2




Ethan a mis 23 balles dans la boîte.  
Alicia en retire 6.

♥ Combien de balles reste-t-il dans la boîte ?

◆

✦ Il reste \_\_\_\_ balles.

3



Rosa a mis 12 balles dans la boîte, Kylian prend des balles, il y a 5 balles maintenant.

♥ Combien en a-t-il pris de la boîte ?

◆

✦ Kylian a pris \_\_\_\_ balles.