
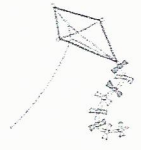




Le son [en] en em

Date : 10 / 04 / 2020

Trace autant d'arcs que de syllabes et coche la syllabe du son [en] :



Colorie le mot lorsque les lettres en font le son [en].

menu **mentir**

fente fenêtre

tenir **tente**

renard **rentrée**

venir venir

Ecris les mots :

tis

tre

den

ven

te



dentiste



ventre

Ecris ces mots à partir des syllabes :



men

ton

ven

tou

menton



chen

tir

sen

fi

sentir



va

ron

pa

rents

parents



sen

bent

ser

pent

serpent

Ecris ces mots, le son [en] s'écrit « en » :



dent



tente

30

trente







ventre

Activité 2





10. Les nombres jusqu'à 100

Session 82 - Dizaines et unités (1)

1 Écris les nombres manquants. Précise le nombre de dizaines et d'unités pour chaque nombre.

a)	 soixante	60	dizaines	6	unités	0
b)	 soixante-dix	70	dizaines	7	unités	0
c)	 quatre-vingts	80	dizaines	8	unités	0
d)	 quatre-vingt-dix	90	dizaines	9	unités	0

2 Écris le nombre de dizaines et d'unités pour chaque nombre.

a)	 soixante-douze	72	dizaines	7	unités	2
b)	 soixante-seize	76	dizaines	7	unités	6
c)	 quatre-vingt-trois	83	dizaines	8	unités	3
d)	 quatre-vingt-onze	91	dizaines	9	unités	1

e) Quel nombre est plus grand que 99 de 1 unité ?
100 cent



Sens des opérations

Représenter une situation.
Identifier l'opération.

Problèmes

Fiche n°

lundi mardi mercredi jeudi vendredi samedi dimanche




/ /

1



J'entoure dans le texte ce que je vais dessiner, je complète le dessin, puis je réponds.



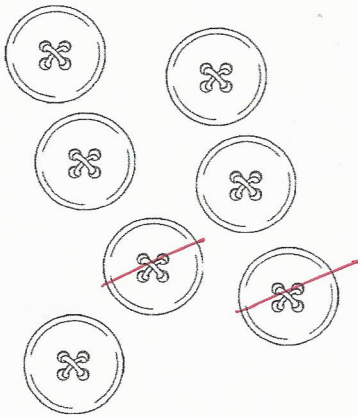
9 canards se promènent dans la mare, mais 3 canards s'envolent.

♥ Combien en reste-t-il sur l'eau ?

◆ $9 - 3 = 6$

✦ Il reste 6 canards sur l'eau.

2



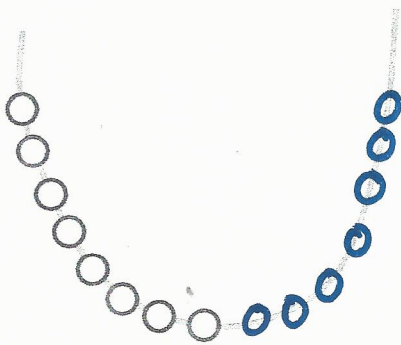
Léa a 7 boutons à son manteau, elle en perd 2 .

♥ Combien lui en reste-t-il ?

◆ $7 - 2 = 5$

✦ Il lui reste 5 boutons.

3



◆ Inès fait un collier de perles, elle a mis 8 perles rouges , puis elle ajoute 7 perles bleues .

♥ Combien y a-t-il de perles dans le collier ?

◆ $8 + 7 = 15$

✦ Il y a 15 perles