

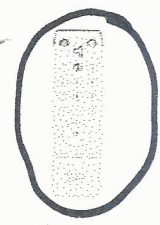


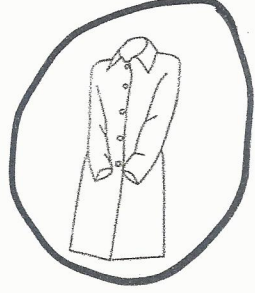


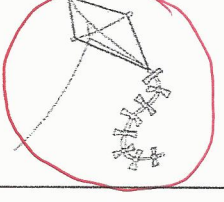
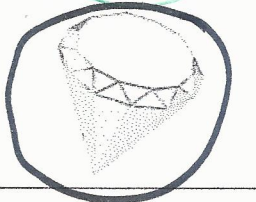


Entoure tout ce qui fait [en]





me **En** **an** **am** on eau **Am** **em** om ne in ein On **an**
am ne **en** on **an** **En** on **an** **Am** **em** **en** ni
 un **manteau** - une **rampe** - le **vent** - un **chant** - un **champ**.

Nomme le dessin puis associe-le avec une des syllabes proposées





lan				
man				
fan				
ban				

Ecris les mots :

pan le bour plan da am pou tam che

			
planche	ampoule	panda	tambour

Ecris ces mots, le son [en] s'écrit « an » :

			
fantôme	banc	lampe	chanter

Prénom : _____


Date : _____

Prénom : _____

Date : _____


1 Compte les points.

Écris les nombres en chiffres et en lettres.
Exemple :




22

vingt-deux




25

vingt-cinq




24

vingt-quatre




27

vingt-sept



23

vingt-trois




29

vingt-neuf


2 Compte les points.

Écris les nombres en chiffres et en lettres.




35

trente-cinq




38

trente-huit



37

trente-sept



39

trente-neuf

e) Quel nombre est plus grand que 39 de 1 unité ?

40

quarante



Sens des opérations

Représenter une situation.

Identifier l'opération.

Problèmes

Fiche n°

lundi mardi mercredi jeudi vendredi samedi dimanche




/ /

1



J'entoure dans le texte ce que je vais dessiner, je complète le dessin, puis je réponds.




8 oiseaux se sont posés dans l'arbre.
5 oiseaux vont s'envoler.

♥ Combien en restera-t-il dans l'arbre ?

◆ $8 - 5 = 3$

♣ Il restera 3 oiseaux.

2




Lylou a allumé 10 bougies pour son anniversaire, elle souffle mais n'éteint que 7 bougies.

♥ Combien de bougies restent allumées ?

◆ $10 - 7 = 3$

♣ Il reste 3 bougies allumées.

3



Dans la tirelire il y avait 9 €. Jules a pris 3 € pour s'acheter un livre.

♥ Combien reste-t-il dans la tirelire ?

◆ $9 - 3 = 6$

♣ Il reste 6 €.