

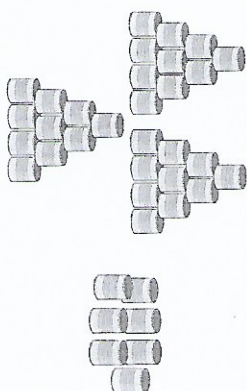
10. Les nombres jusqu'à 100

Activité 3

Séance 83 - Dizaines et unités (2)

- 1 Comte les dizaines et les unités puis complète les phrases.

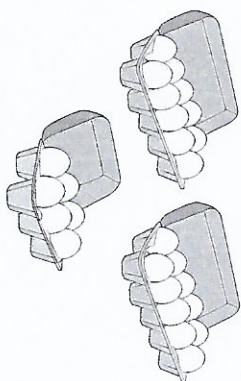
a)



dizaines unités

Il y a boîtes de conserve en tout.

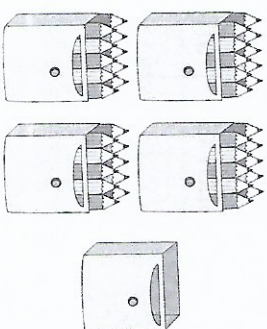
b)



dizaines unités

Il y a œufs en tout.

c)



dizaines unités


Il y a crayons en tout.

- 2 Écris les nombres manquants. Colorie le nombre de carrés correspondant.


Exemple

36 = 3 dizaines 6 unités


36, c'est 30 et 6.



a) 28 = dizaines unités
28, c'est et 8.



b) 69 = dizaines unités
69, c'est 60 et .



c) 92 = dizaines unités
92, c'est et 2.

