

Prénom :





Date :

10. Les nombres jusqu'à 100

Activité 2

Science 82 - Dizaines et unités (1)





1 Écris les nombres manquants. Précise le nombre de dizaines et d'unités pour chaque nombre.

a)	 soixante	60	
		dizaines	unités
b)	 soixante-dix	dizaines	unités
		<input type="text"/>	<input type="text"/>
c)	 quatre-vingts	dizaines	unités
		<input type="text"/>	<input type="text"/>
d)	 quatre-vingt-dix	dizaines	unités
		<input type="text"/>	<input type="text"/>

Prénom :

Date :

2 Écris le nombre de dizaines et d'unités pour chaque nombre.

a)	 soixante-douze	72	
		dizaines	unités
b)	 soixante-seize	dizaines	unités
		<input type="text"/>	<input type="text"/>
c)	 quatre-vingt-trois	83	
		dizaines	unités
d)	 quatre-vingt-onze	91	
		dizaines	unités

e) Quel nombre est plus grand que 99 de 1 unité ?

Date :

Prénom :

Date :