

# Vendredi – semaine 3 – CM1 - correction:

## un Mathador :

Nombre cible : 35

Avec : 9 – 14 – 2 – 3 – 4

$$14 \times 2 = 28$$

$$4 + 3 = 7$$

$$28 + 7 = 35$$

## Lecture - écriture : la lune

Lire le dossier sur les Lunes dans l'île aux mots de la page 110 à la page 116 (attention la page 114 ne fait pas partie du dossier)

Réponds aux questions suivantes :


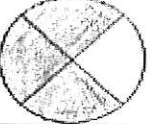
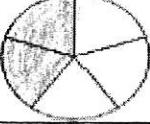
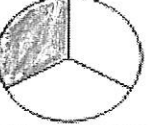
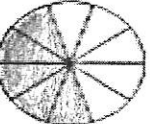
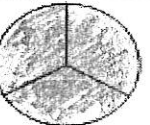
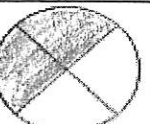
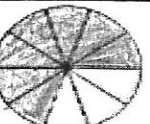
- 1- Quel est le rôle du sommaire p111 ? **indiquer les différents titres, thèmes ou chapitres de ce dossier sur les lunes, plus en proposer un résumé.**
- 2- Trouve p112 et p113 un synonyme du mot lune. **Satellite naturel, cailloux en orbite**
- 3- Quelle planète du système solaire a le plus grand nombre de lunes ? **Jupiter**
- 4- Comment s'appelle la plus grosse lune du système solaire et autour de quelle planète tourne-t-elle ? **Ganymède qui tourne autour de Jupiter**
- 5- Quelle lune contient des rivières de lave ? **Io la bouillante**
- 6- Pourquoi les scientifiques pensent-ils que la vie existe peut-être sur Europe ? **car il y a de l'eau sous la surface gelée qui est sans doute réchauffé par le cœur de la lune avec la présence de roche au contact de cet eau : 3 éléments susceptibles d'accueillir la vie.**

# Numération : les fractions

Entraîne-toi :

## LES FRACTIONS



Colorie :	Ecris en lettres :	Ecris la fraction :
	Un demi	$\frac{1}{2}$
	Trois quarts	$\frac{3}{4}$
	deux cinquièmes	$\frac{2}{5}$
	un tier	$\frac{1}{3}$
	Cinq dixièmes	$\frac{5}{10}$
	Trois tiers	$\frac{3}{3}$
	deux quart	$\frac{2}{4}$
	sept dixième	$\frac{7}{10}$