

Prénom : _____

Date : _____



Nombres et calculs : Les fractions décimales

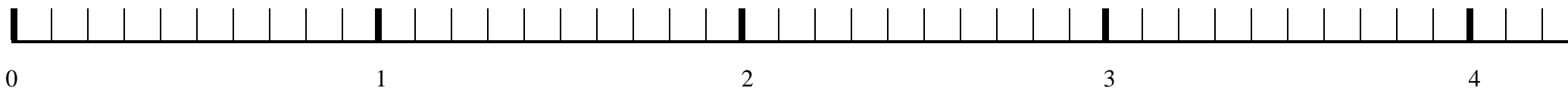
Utiliser les fractions décimales

CM2

Fiche d'exercices n° 31

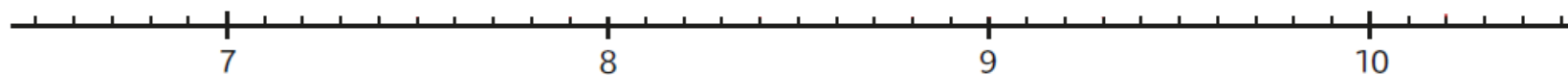
➔ **Exercice 1** : Sur cette droite, **place** les fractions indiquées.

$$\frac{2}{10} \quad \frac{12}{10} \quad \frac{19}{10} \quad \frac{10}{10} \quad \frac{34}{10} \quad \frac{41}{10} \quad \frac{20}{10}$$

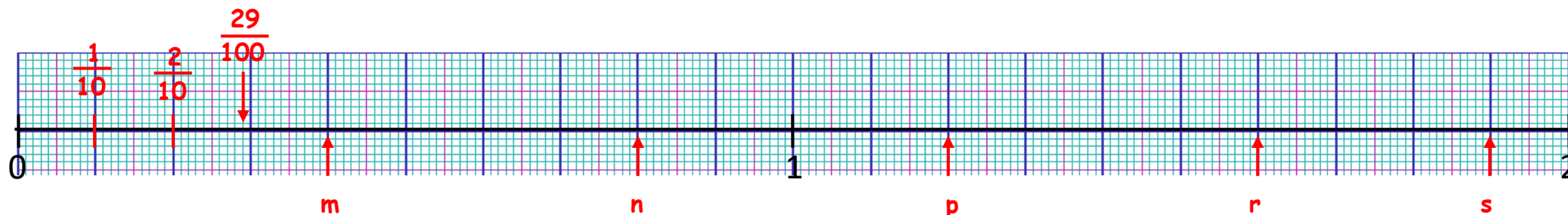


➔ **Exercice 2** : **Place** les fractions suivantes sur la droite graduée.

$$\frac{88}{10} \quad \frac{93}{10} \quad \frac{75}{10} \quad \frac{90}{10} \quad \frac{84}{10} \quad \frac{102}{10} \quad \frac{79}{10}$$



➔ **Exercice 3** : Par quelles fractions peut-on remplacer les lettres **m**, **n**, **p**, **r**, **s** et **t** ?



Sur cette droite, **place** les fractions indiquées.

$$\frac{29}{100} \quad \frac{78}{100} \quad \frac{45}{100} \quad \frac{60}{100} \quad \frac{136}{100} \quad \frac{100}{100}$$