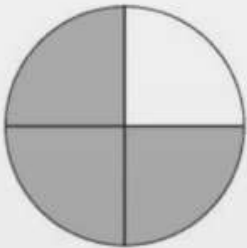
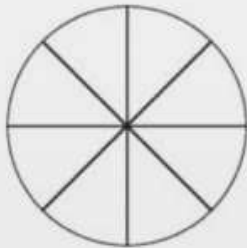
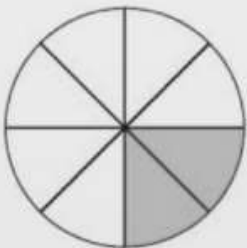

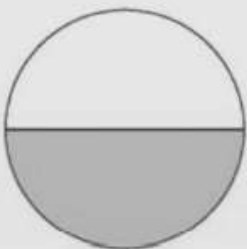
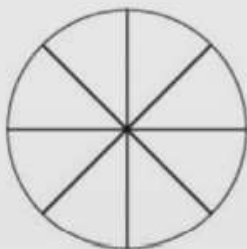
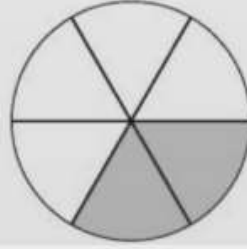
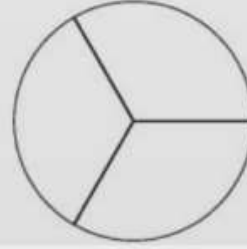
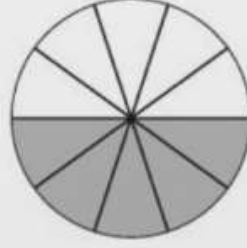
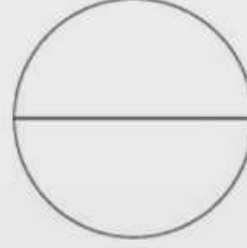
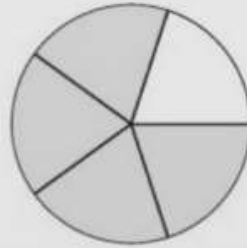
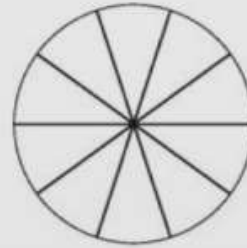


Les fractions Exercices

En t'aidant des représentations, écris deux fractions équivalentes

	=		— = —
	=		— = —
	=		— = —
	=		— = —
	=		— = —
	=		— = —

1- Réponds aux questions




Voici une pizza

- Luc en mange un quart. Colorie sa part en rouge. Combien cela représente-t-il de parts ?
- Lilly en mange un demi. Colorie sa part en bleu. Combien cela représente-t-il de parts ?
- Combien de parts reste-t-il ?

Écris le nombre de parts restants sous la forme d'une fraction :

2- Même consigne

Voici une tablette de chocolat.



- Léo en mange un sixième. Colorie sa part en rouge. Combien cela représente-t-il de carreaux ?
 - Inès en mange un quart. Colorie sa part en bleu. Combien cela représente-t-il de carreaux ?
 - Combien de carreaux reste-t-il ? Écris le nombre de carreaux restants sous la forme d'une fraction :
-