

Vendredi 19 juin 2020.

FRANÇAIS

ETUDE DE LA LANGUE :

L'imparfait des verbes en « -er » : Fiche d'entraînement 2

Exercice 1 :

Complète avec un pronom personnel qui convient.

..... coupait le bois.

..... jardiniez.

..... marchions longtemps.

..... fermaient la porte.

Parents : pour aider votre enfant, vous pouvez entourer les terminaisons des verbes dans l'exercice.

Exercice 2 :

Complète les phrases en conjuguant le verbe écrit entre parenthèses à l'imparfait.

À l'anniversaire de Marin, vous (danser).

Autrefois, mon oncle (enseigner).

Avant, je (distribuer) le courrier.

Petits, nous (regarder) des dessins animés.

Jadis, ils (monter) tout en haut de la montagne.

Parents : pour aider votre enfant, vous pouvez entourer les sujets des verbes dans l'exercice et le remplacer sujet par un pronom personnel si ça n'en est pas un.

Exercice 3 :

Réécrit les phrases en changeant de sujet (attention, il te faudrait aussi changer la terminaison du verbe).

Hier, Lucette plantait des fleurs dans le jardin.

Hier, tu

Autrefois, nous mangions à la lueur des bougies.

Autrefois, vous

Petite, je sautais dans les flaques d'eau.

Petites, Claire et Lili


Parents : pour aider votre enfant, vous pouvez entourer les terminaisons des verbes qui devront être modifiées.

Jeux en ligne :

https://www.clicmaclasse.fr/activites/etude-langue/imparfait-er/imparfait-er_ex02.html

https://www.clicmaclasse.fr/activites/etude-langue/imparfait-er/imparfait-er_ex04.html

https://www.clicmaclasse.fr/activites/etude-langue/imparfait-er/imparfait-er_ex05.html



Les 9 vies d'Aristote (9)

- > Interpréter les substituts
- > Attribuer du sens à des mots inconnus
- > Comprendre les pensées des personnages

Un jour, alors que Bella Donna rendait visite à la fermière, Aristote décida de traverser la cour de la ferme malgré l'interdiction de la sorcière. Depuis qu'il accompagnait Bella Donna à la ferme, il avait envie de savoir ce qu'il y avait dans la niche.

Comme il approchait, il sentit une drôle d'odeur qui venait de la niche, une odeur qu'il n'avait jamais rencontrée auparavant et qui ne lui plaisait pas beaucoup. Lorsqu'il fut vraiment tout près, il entendit un bruit. C'était quelqu'un qui ronflait.

Curieux comme tous les chats, Aristote passa la tête dans l'entrée de la niche et sonda l'obscurité intérieure. Là, couché sur le ventre et profondément endormi, sa grosse tête calée sur ses pattes, se trouvait un très grand animal... cause de l'odeur et des ronflements.

Il se trouvait qu'Aristote n'avait jamais vu de chien de sa vie et ne savait pas que, en général, ils n'aimaient pas beaucoup les chats. Mais l'odeur de l'animal était si forte dans ses narines à présent, ses ronflements si bruyants à ses oreilles qu'il décida de le laisser en paix, d'autant que chaque ronflement faisait se relever les babines du molosse, dévoilant une batterie de crocs redoutables.



Souviens-toi de l'histoire et **coche** ce qui est vrai.

- Maintenant, Aristote est presque un chat adulte.
- Aristote est toujours un chaton.
- Il lui reste cinq vies.
- Il lui reste quatre vies.
- Il accompagne la sorcière à la ferme.
- Il reste à la maison pendant que la sorcière va à la ferme.
- Bella veut bien qu'Aristote entre dans la cour de la ferme.
- Bella ne veut pas qu'Aristote entre dans la cour de la ferme.

Relie le mot en orange au mot à partir duquel il est formé.

- l'**interdiction** ● ● avant
- auparavant** ● ● interdit

Réponds aux questions par une phrase.

Que sent Aristote quand il approche de la niche ?

Connait-il cette odeur ? _____


Aime-t-il cette odeur ? _____

Les rectangles (1).

JE COMPRENDS LA LEÇON :

Parmi les quadrilatères, tu vas apprendre à reconnaître un **rectangle**.

Regarde cette vidéo : <https://lesfondamentaux.reseau-canope.fr/video/reconnaitre-le-rectangle.html>



Un **rectangle** a 4 côtés et 4 angles droits.

Les quadrilatères qui ont 4 angles droits s'appellent donc des rectangles.

JE M'ENTRAÎNE :

Fichier « J'apprends les maths CE1 », n°1 page 87 (leçon 66).

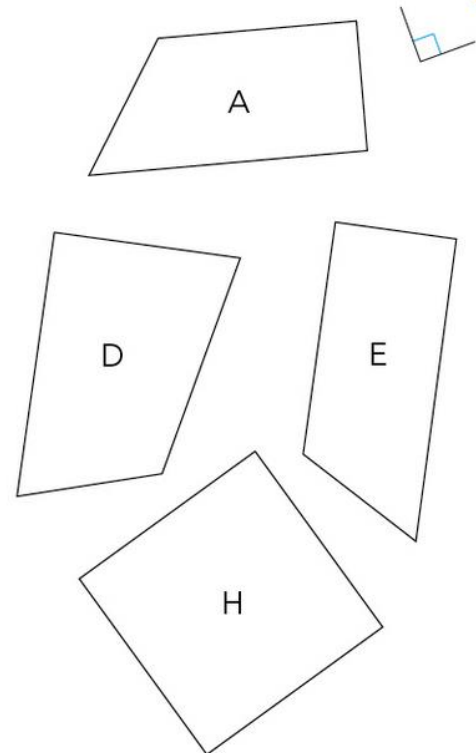
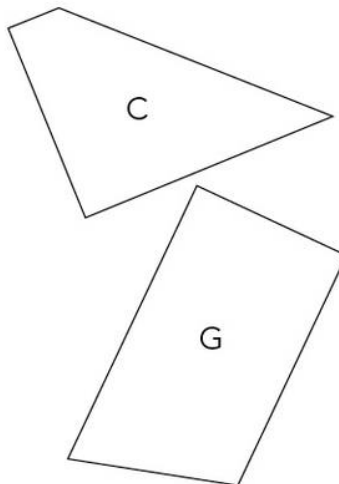
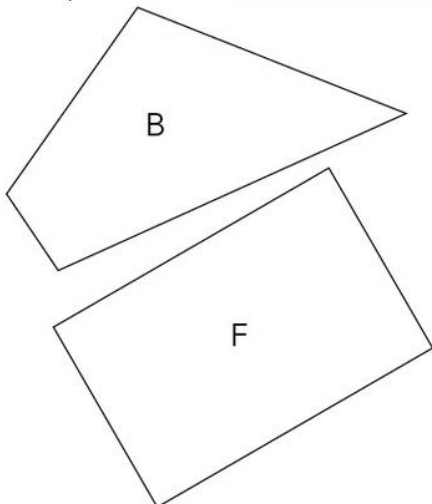
Prends ton équerre et complète.

Les quadrilatères ont 4 angles droits.

Les quadrilatères ont 3 angles droits.

Les quadrilatères ont 2 angles droits.

Le quadrilatère a 1 angle droit.



J'ai appris

Les quadrilatères qui ont 4 angles droits s'appellent des rectangles.

Exercices supplémentaires :

Fichier « J'apprends les maths CE1 », n°4 page 93 (leçon 70).

Fichier « J'apprends les maths CE1 », n°4 page 95 (leçon 71).