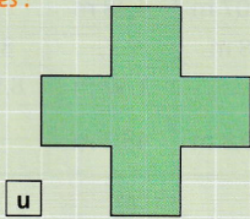


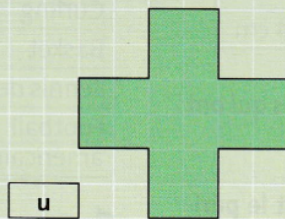
Je retiens

→ L'aire d'une figure est la mesure de sa surface. On peut exprimer l'aire à l'aide d'une **unité d'aire (u)**.

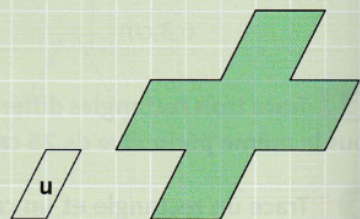
Exemples :



L'aire de la figure est égale à 20 **u**.



L'aire de la figure est égale à 10 **u**.



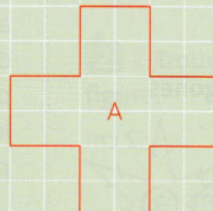
L'aire de la figure est égale à 10 **u**.

→ On peut aussi utiliser une unité d'aire qui a la forme d'un carré de 1 cm sur 1 cm. On dit que son aire mesure 1 cm².

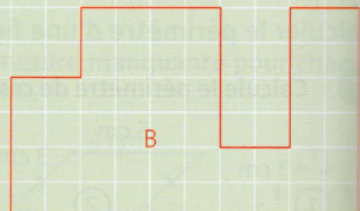
On lit : un centimètre carré.

Exemples :

1
cm²



A = 5 cm²



B = 12 cm²