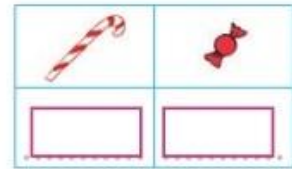
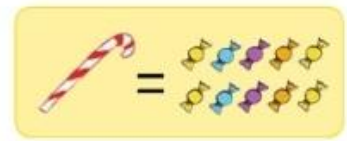


# Révisions : les nombres jusqu'à 49

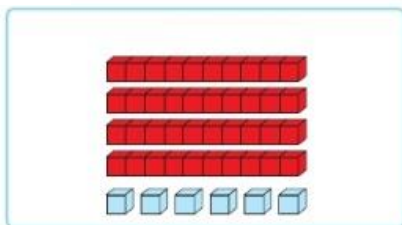
1- Jade échange 10 bonbons contre 1 sucre d'orge.

 **Échange** les paquets de 10 bonbons

puis  **complète** l'étiquette.

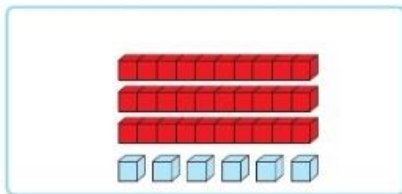


2-  **Relie** chaque collection à son étiquette-nombre.



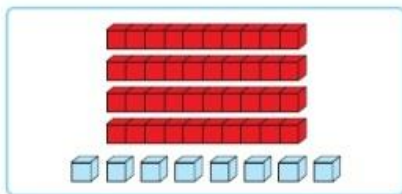
• 36 •

• 4 dizaines et 6 unités



• 48 •

• 3 dizaines et 6 unités




• 46 •

• 4 dizaines et 8 unités

3-  **Dessine** les dizaines et les unités puis  **complète** les décompositions.


45



$$45 = \dots + \dots + \dots + \dots + \dots$$

$$45 = \dots + \dots$$


28



$$28 = \dots + \dots + \dots$$

$$28 = \dots + \dots$$

32



$$32 = \dots + \dots + \dots + \dots$$

$$32 = \dots + \dots$$

4-  Complète avec le nombre juste avant et le nombre juste après.

|      |    |      |
|------|----|------|
| .... | 46 | .... |
|------|----|------|

|      |    |      |
|------|----|------|
| .... | 20 | .... |
|------|----|------|

|      |    |      |
|------|----|------|
| .... | 31 | .... |
|------|----|------|

|      |    |      |
|------|----|------|
| .... | 40 | .... |
|------|----|------|

5-  Range les nombres du plus petit au plus grand (↗).

36 41 18 13 8 27

34 19 43 14 39 40

|      |      |      |      |      |      |
|------|------|------|------|------|------|
| .... | .... | .... | .... | .... | .... |
|------|------|------|------|------|------|

|      |      |      |      |      |      |
|------|------|------|------|------|------|
| .... | .... | .... | .... | .... | .... |
|------|------|------|------|------|------|

6-  Range les nombres du plus grand au plus petit (↘).

28 43 18 12 37 40

36 16 19 41 10 9

|      |      |      |      |      |      |
|------|------|------|------|------|------|
| .... | .... | .... | .... | .... | .... |
|------|------|------|------|------|------|

|      |      |      |      |      |      |
|------|------|------|------|------|------|
| .... | .... | .... | .... | .... | .... |
|------|------|------|------|------|------|

7-  Complète avec le signe < ou >.

36 ... 30    34 ... 43    39 ... 36    31 ... 29    19 ... 20    47 ... 45

8-  Complète avec un nombre qui convient.

|    |    |    |
|----|----|----|
| 43 | .. | 45 |
|----|----|----|

|    |    |    |
|----|----|----|
| 40 | .. | 49 |
|----|----|----|

|    |    |    |
|----|----|----|
| 18 | .. | 20 |
|----|----|----|

|    |    |    |
|----|----|----|
| 17 | .. | 32 |
|----|----|----|

|    |    |    |
|----|----|----|
| 20 | .. | 30 |
|----|----|----|

|    |    |    |
|----|----|----|
| 29 | .. | 31 |
|----|----|----|