


Comparer et ranger les nombres jusqu'à 49



Cherchons

J'ai collé les photos des jouets du plus cher au moins cher.




→ Que penses-tu du rangement de Rémi ?

1 Entoure la plus grande collection.



2 Lisa veut ranger ses poupées de la plus petite à la plus grande. Aide-la.



3 Écris le signe < ou >.

24 44

40 39

32 36

34 43

4 Range les nombres du plus petit au plus grand.

38 45 16 43 9 27



5 Range les nombres du plus grand au plus petit.


23 19 41 38 14 32



Je révise


Relie.

23




• quarante-trois

43



• vingt-trois

33



• trente-trois