

Date : Mardi 14 avril 2020

- Connaître les doubles jusqu'à 9
- S'appuyer sur les doubles pour calculer.


## Exercices

### Les doubles (2)

1


Observe et complète.

double de 6




$$6 + 6 = \dots$$

double de 7




$$7 + 7 = \dots$$

double de 8



$$8 + 8 = \dots$$

double de 9



$$9 + 9 = \dots$$

2

Complète le tableau puis relie les nombres à leur double.

$1 + 1 = \dots$   
 $2 + 2 = \dots$   
 $3 + 3 = \dots$   
 $4 + 4 = \dots$   
 $5 + 5 = \dots$   
 $6 + 6 = \dots$   
 $7 + 7 = \dots$   
 $8 + 8 = \dots$   
 $9 + 9 = \dots$

6

7

8

9

14

12

18

16

3

Calcule comme dans l'exemple.

$$7 + 8 = 7 + 7 + 1 = 14 + 1 = 15$$

$$6 + 7 = 6 + 6 + 1 = \dots + 1 = \dots$$

$$8 + 9 = \dots + \dots + 1 = \dots + 1 = \dots$$

$$5 + 6 = \dots + \dots + 1 = \dots + 1 = \dots$$

4

Complète la suite des doubles.

