

Prénom :






Date :

61

Écriture littérale des nombres à 2 chiffres (1)

Calcul mental

- Compteur (- 1 ; + 1 ; - 10 ; + 10) :
Picbille → chiffres
- Additions mentales ($n + 5$; $5 + n$)



Complète ci-dessous. Aide-toi de cet extrait de la *Planche des nombres écrits en lettres* (pages 160-161).

un	deux	trois	quatre	cinq	six	sept
onze	douze	treize	quatorze	quinze	seize	dix-sept

18

11

15

12

dix-huit

16

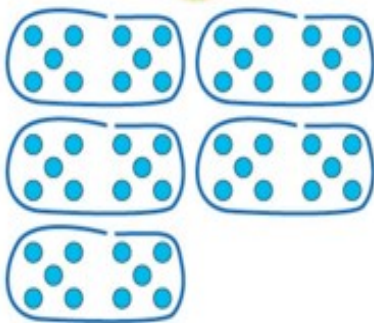
14

17

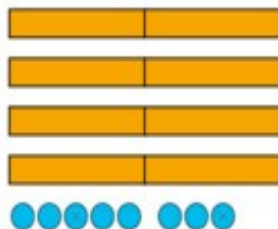
13

A

Qui a le plus grand nombre ? Quelle est la différence ?



Dédé a jetons.



Picbille a jetons.

- C'est Dédé.

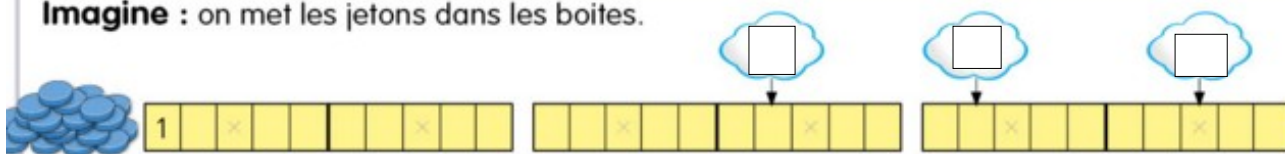
- C'est Picbille.

- Ils ont autant de jetons l'un que l'autre.

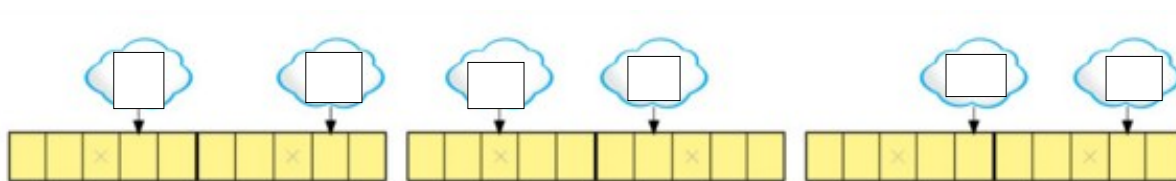
La différence est .

B

Imagine : on met les jetons dans les boites.



Suite de la file numérique :



D

Prénom :

Date :