

Prénom : .....

**Évaluations début période 5 (après confinement !!!)**

**Français**

**Lecture (décodage)**

**1. Lis les syllabes :**

ra	pe	il	fou	ir	us	mé	cha	nu	ar	lo
phar	maul	peau	tan	qui	fon	aki	pai	rei	ci	ça
co										

**2. Lis les mots outils :**

c'est	un	le	la	une	de	est	dans	avec	sur	où	les	elle	il

toujours	devant	rien	quoi	alors	sans	moi	entre	aucun	bientôt	quand	au bout

**3. Lis les mots :**

à	où	la	au	tu	un	il	ira
on	mur	ni	sur	tri	vote	par	foi
chat	poire	ami	moto	pour	lune	tard	lire
bon	mardi	fin	avril	roi	enfant	farine	cheval
vente	malin	porte	autre	loup	lent	poutre	perche

car	phare	huit	matin	triche	poilu	lundi	jaune
miroir	six	voiture	livre	tarte	boule	tulipe	sept
lourd	dauphin	droite	hibou				

4. Lis les phrases :

- Volo est sous une salade.

Volo est **sous** une salade.

- Arthur entend un cri dans la volière.

**Arthur** **entend** un cri **dans** la volière.

5. Lis le texte (fluence, nombres de mots à la minute) :

Dimanche, Lola et sa mamie ont marché jusqu'au 10  
lac de la forêt. Lola s'est amusée à courir avec un 21  
bâton pour faire peur aux canards, mais elle a 33  
glissé et mis une jambe dans l'eau. Comme l'eau 43  
était très froide, elle s'est mise à pleurer. 45

Nombre de mots lus en 1 minute : .....

Dim**an**che, Lola et sa mamie **ont** marché jusqu'**au** 10  
lac de la forêt. Lola s'est amusée à **courir** avec un 21  
bâ**ton** pour faire peur **aux** canards, **mais** elle a 33  
glissé et mis une **jambe** **dans** l'**eau**. Comme l'**eau** 43  
**était** très **froide**, elle s'est mise à **pleurer**. 45

Nombre de mots lus en 1 minute : .....

6. Écris les sons dictés :

--	--	--	--	--	--	--	--	--	--	--	--

7. Écris les syllabes dictées :

1. .... 2. .... 3. .... 4. .... 5. ....  
6 ..... 7 ..... 8 ..... 9 ..... 10 .....

8. Écris les mots outils dictés :

1. .... 2. .... 3. .... 4. .... 5. ....  
6 ..... 7 ..... 8 ..... 9 ..... 10 .....

9. Écris les mots dictés :

1. .... 2. .... 3. .... 4. .... 5. ....  
6 ..... 7 ..... 8 ..... 9 ..... 10 .....

10. Écris la phrase dictée :

---

---

11. Relie le mot au bon dessin :

une mouche

de la mousse

une tasse

une tache



une porte


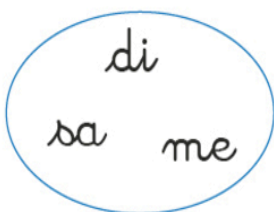
il porte

il poste

une poste



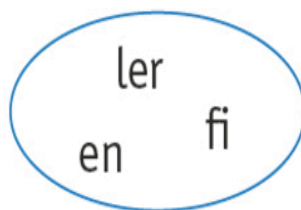
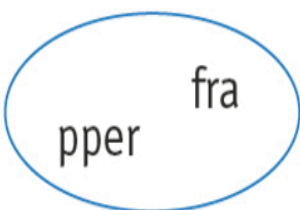
12. Remets les syllabes dans l'ordre pour faire 6 mots. Écris chaque mot au dessous. :



\_\_\_\_\_

une \_\_\_\_\_

un \_\_\_\_\_



\_\_\_\_\_

\_\_\_\_\_

\_\_\_\_\_

13. Remets les mots dans l'ordre pour écrire les 2 phrases. N'oublie pas le point et la majuscule :

un Nicolas ami. rencontre

classe. Un la ouvre élève de fenêtre la

14. Lis le texte et réponds aux questions :

Dimanche, Lola et sa mamie ont marché jusqu'au lac de la forêt. Lola s'est amusée à courir avec un bâton pour faire peur aux canards, mais elle a glissé et mis une jambe dans l'eau. Comme l'eau était très froide, elle s'est mise à pleurer.

	OUI	NON
1. Qui sont les deux personnages de l'histoire ?		
2. Où Lola et sa mamie sont-elles allées ?		
3. Comment Lola et sa mamie vont-elles au lac ?		
4. Avec quoi Lola fait-elle peur aux canards ?		
5. Pourquoi Lola pleure-t-elle ?		

15. Relie en utilisant il, ils ou elle, elles :



il

ils

elle

elles



16. Écris « le, la, l' ou les » :

\_\_\_ silence

\_\_\_ chemise

\_\_\_ bananes

\_\_\_ orage

\_\_\_ écriture

\_\_\_ plantes

\_\_\_ enfant

\_\_\_ camarades

17. Écris les noms au pluriel :

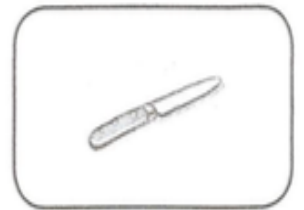


une chèvre → des \_\_\_\_\_

un chiffre → des \_\_\_\_\_

un mouton → des \_\_\_\_\_

un ami → des \_\_\_\_\_

18. Écris ce que tu vois :



\_\_\_\_\_

\_\_\_\_\_

\_\_\_\_\_

\_\_\_\_\_

**19. Copie les mots :**

une porte . . . . .

une chaussure . . . . .

un cadeau . . . . .

une dame . . . . .

le vent . . . . .

**20. Copie la phrase :**

Timothée a vu un homme sur un cheval.

.

**21. Recopie le petit texte :**

Arthur ramasse des salades et des carottes pour le roi. Il découvre, caché sous une salade, un petit faucon. L'animal a une patte cassée.

Blank handwriting lines for copying the text.












1. Écris les nombres dictés :




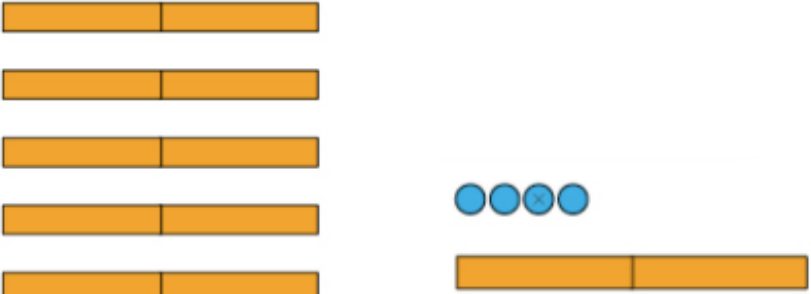

2. Pour chaque ligne écris le nombre en chiffres (nuage) en lettres et en paquets de 10 :

 vingt - trois      \_\_\_\_\_  
 .....  $10 + 10 + 10 + 6$   
 .....  
 soixante - cinq .....  
 .....  $10 + 10 + 10 + 10 + 10 + 9$

3. Pour chaque nombre de la colonne du milieu, écris le nombre qui vient juste avant et celui qui vient juste après :

Avant	Nombres	Après
.....	25	.....
.....	62	.....
.....	30	.....
.....	73	.....
.....	49	.....

4. **Dénombrer chaque collection et écrire le résultat en chiffres dans la case qui est devant (fais des groupes de 10) :**

5. **Calcul mental « additions » :**



**6. Calcul mental « soustractions » :**



**7. Calcule les additions posées en lignes :**

$2 + 8 = \dots\dots\dots$

$10 + 5 = \dots\dots\dots$

$6 + 0 = \dots\dots\dots$

$4 + 3 = \dots\dots\dots$

$3 + 3 = \dots\dots\dots$

$3 + 5 = \dots\dots\dots$

$5 + 8 = \dots\dots\dots$

$3 + 7 = \dots\dots\dots$

$7 + 7 = \dots\dots\dots$

$8 + 4 = \dots\dots\dots$

$2 + 9 = \dots\dots\dots$

$6 + 9 = \dots\dots\dots$

$7 + 6 = \dots\dots\dots$

$7 + 8 = \dots\dots\dots$

**8. Calcule les soustractions posées en lignes :**

$10 - 4 = \dots\dots\dots$

$7 - 6 = \dots\dots\dots$

$9 - 8 = \dots\dots\dots$

$5 - 3 = \dots\dots\dots$

$8 - 6 = \dots\dots\dots$


$10 - 7 = \dots\dots\dots$

$9 - 2 = \dots\dots\dots$

$9 - 6 = \dots\dots\dots$

## Géométrie

9. Complète le dessin comme le modèle en utilisant ta règle (faire la forme 2 fois) :



## Situations problèmes

10. Résous les problèmes suivants :

Il y a  €.

Dessine exactement l'argent nécessaire pour acheter ce ballon.

Attention, essaye d'utiliser le moins de pièces et de billets.



1. Au supermarché, les bouchons sont vendus par paquets de 10.

Madame Sautron achète 3 paquets.

Combien de bouchons a-t-elle achetés en tout ?

2. Suite de l'histoire des bouchons de Madame Sautron...

Le fils de Madame Sautron ce gourmand, vient de manger 6 bouchons.

Combien maintenant, reste t-il de bouchons à Madame Sautron ?