

## CALCUL MENTAL

Problème : soustraire 10 €  
« Anna a 18 €. Elle paie 10 €  
pour entrer au zoo. Combien lui reste-il ? »

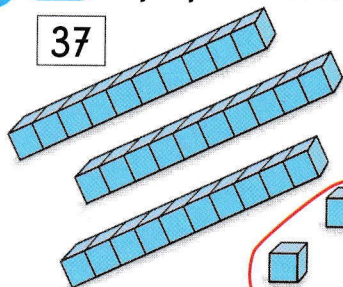


1

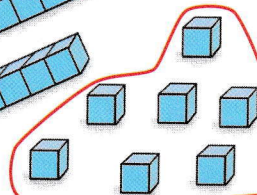
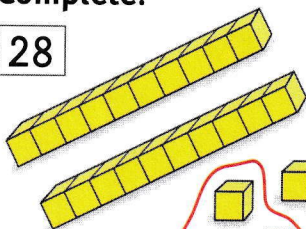


Explique cette façon de calculer. Complète.

37




28




$$37 + 28 = \dots\dots\dots$$

Je regroupe  
10 unités pour faire  
1 dizaine de plus.



2

Utilise le dessin pour trouver le résultat de l'addition.



$$25 + 46 = \dots\dots\dots$$

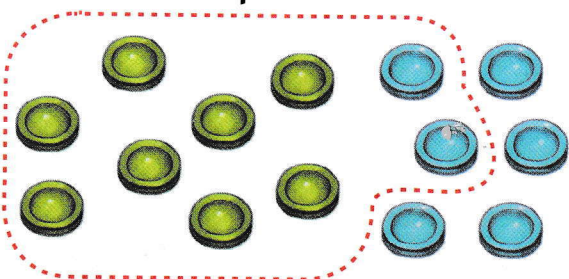
3

Fais un dessin pour trouver le résultat de l'addition.

$$19 + 25 = \dots\dots\dots$$


4

Observe et complète.



$$8 + 6 = 14$$

14 =    dizaine    unités.



$\dots\dots\dots + \dots\dots\dots = \dots\dots\dots$   
 $\dots\dots\dots =$     dizaine    unités.

5

Décompose en dizaines et unités.

$$18 = \dots\dots d \dots\dots u$$

$$13 = \dots\dots d \dots\dots u$$

$$12 = \dots\dots d \dots\dots u$$