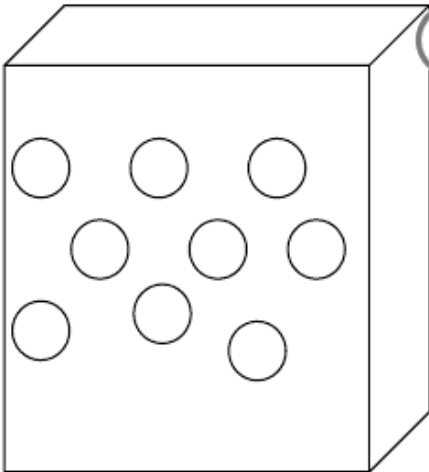




Je cherche, je dessine puis je réponds.



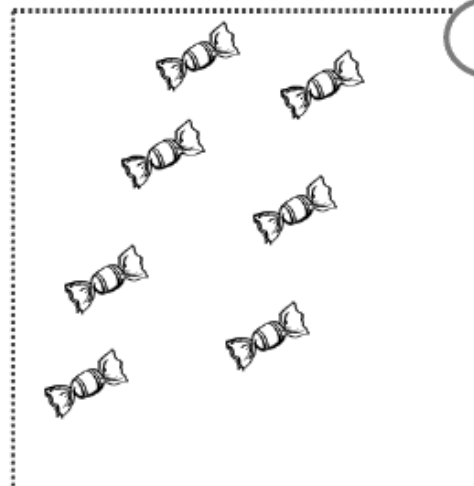
1

Thibault a 9 billes dans sa boîte, il en perd 3 à la récréation .

♥ **Combien a-t-il de billes maintenant ?**

♦ _____ = _____

♣ Thibault a billes.



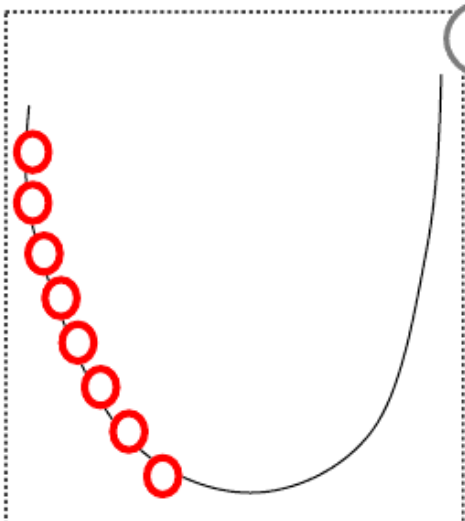
2

Fabien a 7 bonbons, il en mange 2 .

♥ **Combien lui en reste-t-il ?**

♦ _____ = _____

♣ Il lui reste bonbons.



3

Marion fait un collier de perles, elle a mis 8 perles rouges, puis elle ajoute 7 perles bleues .

♥ **Combien y a-t-il de perles dans le collier ?**

♦ _____ = _____

♣ Il y a perles.



Je cherche, je dessine puis je réponds



1

Matéo a 12 cartes , il en donne 4 à son amie .

♥ **Combien a-t-il de cartes maintenant ?**

♦ _____ = _____



2

Noé a 8 bananes, il en mange 3 .

♥ **Combien lui en reste-t-il ?**

♦ _____ = _____

♣ Il lui reste bananes.



3

Pierre a 4 crayons verts dans sa trousse, 3 crayons rouges et 6 crayons jaunes.

♥ **Combien a-t-il de crayons ?**

♦ _____ = _____

♣ Il a crayons.



1 Zoé a un paquet de 9 images.

Elle doit mettre 3 images dans chaque enveloppe.

Combien d'enveloppes lui faut-il ?

Il lui faut enveloppes.

_____ = _____



2 Dans une boîte, il y a déjà 7 billes.

Noémie veut 12 billes dans la boîte.

Combien de billes Noémie doit-elle encore mettre dans la boîte ?

Noémie doit ajouter billes.

_____ = _____



3 Dans un album, il y a 9 photos :
des photos de Léo et des photos de Noa.

Maman a sorti toutes les photos de Noa.

⇐ Les voici.

Combien y a-t-il de photos de Léo ?

Il y a photos de Léo.

_____ = _____



1 Malo a un paquet de 12 images.
Il doit y avoir autant d'images dans cha-
cune des enveloppes. **Combien d'images y
aura-t-il dans chaque enveloppe ?**

Il y aura images.

_____ = _____



2 Il faut 12 billes dans le sac. Dylan a dé-
jà mis 4 billes.

Combien en manque-t-il ?

Il manque billes.

_____ = _____



3 Maman distribue 12 gâteaux à ses
3 enfants.

**Combien vont-ils avoir de gâteaux
chacun ?**

Chaque enfant aura gâteaux

_____ = _____

