

LA PHONOLOGIE LE SON DE LA SEMAINE :


	[t]
	T t t
	TENTE
	tomate
	lortue


FICHE 1

1. Coche la case qui correspond à la syllabe où tu entends [t].









2. Ecris la syllabe que tu entends au début de chaque mot : ta ta té ti .











3. Complète avec les syllabes : ta te té to tu toi .



ves		
-----	--	--



		be
--	--	----



car				ble
-----	--	--	--	-----



cos				me
-----	--	--	--	----



é				le
---	--	--	--	----



mo		
----	--	--



pi		ra		
----	--	----	--	--




		lé
--	--	----



voi				re
-----	--	--	--	----


FICHE 1



TOUJARDIN


Le spécialiste du jardin en forme

PROMOTION




TONDEUSE électrique
Garantie 2 ans

99 €



Bêche
marque
Jardou

12 €



Râteau
marque
Toujardin

14 €

Grand choix d'arbustes à prix cassés !

Tulipes

Hauteur
40 cm

bulbes
soleil

7 €

Floraison
d'avril à
juin

Pivoine

vivace
ombre

10 €

Buis
déguisé

32 €

- 20%

Gazon adapté
aux grands espaces

GAZON PARFAIT

10 kg

50 € 40 €

- 10%

Terreau pour
potager

TERREAU

40 litres

20 € 18 €

- 10%

Terreau spécial
fleurs

TERREAU


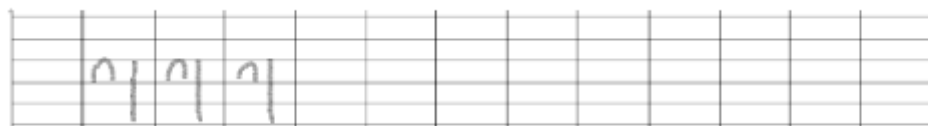
20 litres

10 € 9 €


Entoure la bonne réponse

- 1 Comment s'appelle ce magasin ?
 - Il s'appelle « Jardin de rêve ».
 - Il s'appelle « Toujardin ».
 - Il s'appelle « Le jardinier ».
- 2 A quoi sert ce document ?
 - C'est de la publicité de jardinage.
 - C'est un dictionnaire de jardinage
 - C'est une chanson sur les jardiniers.
- 3 Combien payeras-tu une bêche ?
 - Je vais payer 99 Euros.
 - Je vais payer 12 Euros
 - Je vais payer 14 Euros.
- 4 Qu'est-ce qui coûte 18 Euros ?
 - C'est la tondeuse
 - C'est le gazon
 - C'est le terreau pour potager
- 5 Quel est l'article en promotion ?
 - C'est la tondeuse à essence
 - C'est la tondeuse électrique
 - C'est le râteau


ECRITURE




L'élève lève une fois son crayon lors du tracé du pont du p.



L'élève lève une fois son crayon lors du tracé du pont du p.



L'élève lève deux fois son crayon : le pont du p et le o.



L'élève lève deux fois son crayon : le pont du p et le a.

plus

L'élève lève une fois son crayon : le pont du p.

puis

L'élève lève deux fois son crayon : le pont du p et le point du i

Paul pèle une pomme

P

GRAMMAIRE

1- Colorie les phrases qui sont correctes

Les enfants font la sieste

Le mardi, je vais à l'équitation.

Regardons nous film un.

Le téléphone a sonné.

2- Place les mots en ordre pour écrire une phrase. Pense aux majuscules et aux points.

vous

fait

hier,

avez

la

peinture

de

.....

matin,	piscine	nous	la	allons	à	ce
--------	---------	------	----	--------	---	----

.....

1- Ecris « un » ou « une » devant les mots

..... maison stylo
..... coiffeuse chat
..... cartable maîtresse

2- Ecris « le » ou « la » devant les mots

..... lionne chocolat
..... gâteau chien
..... cuisine table

VOCABULAIRE

FICHE 1

**1- Colorie le mot qui vient en premier dans l'ordre alphabétique
Regarde la première lettre de chaque mot !**

Ami	Cube
Dame	Papa
Lime	Poule

FICHE 2

1- Découpe les étiquettes-mots et colle-les dans l'ordre alphabétique.

Maman	Wagon
Cadeau	Xylophone

Ami	Quatre
Image	Souris
Fille	Dame
Zoo	Ecole
Kangourou	Jouet
Une	Valise
Bateau	Olive
Hérisson	Papa
Lapin	Yack
Nuage	Gâteau
Tortue	Radis

MATHEMATIQUES

FICHE 1

Compter de 1 en 1 jusqu'à 50.

Compter de 2 en 2 jusqu'à 10.

Compter de 10 en 10 jusqu'à 50.

Décomposition d'un nombre : exemple **3** c'est **2+1** ou **1+1+1**

Donner 2 décompositions du nombre 4 :

4=.....

4=.....

Calcul mental :

Calculer le plus rapidement possible :

10+10= 10+20=..... 30+10= 20+10=..... 10+10+10=

Numération :

***Dictée de nombres :**

8-12-25-36-47-11

Compare les nombres avec < ou > :

$17 \dots 14$

$27 \dots 31$

$24 \dots 19$

$37 \dots 49$

Problème

Résous le problème suivant :

« La classe de Madame Martin a marqué 8 points à un défi mathématique. La classe de

Monsieur Lamy a marqué 4 points. Combien l'école a-t-elle marqué de points au total ?

Calcul :

Réponse : L'école a marqué.....points.

Activités ritualisés

Compter de 1 en 1 jusqu'à 100.

Compter de 2 en 2 jusqu'à 30.

Compter de 10 en 10 jusqu'à 100.

Décomposition d'un nombre : exemple 6 c'est 4+2 ou 3+3 ou 3+2+1.

Donner 2 décompositions du nombre 8 :

$8 = \dots\dots\dots$

$8 = \dots\dots\dots$

Calcul mental :

Calculer le plus rapidement possible :

$10+30 = \dots\dots \quad 20+20+10 = \dots\dots \quad 30+30+10 = \dots\dots \quad 50+10 = \dots\dots$

$10+10+10 = \dots\dots$

Numération :

Dictée de nombres :

32-45-73-78-64-51

Problème

Résous le problème suivant :

« La classe de Madame Martin a marqué 17 points à un défi mathématique. La classe de Monsieur Lamy a marqué 12 points. Combien l'école a-t-elle marqué de points au total ?

Calcul :.....

Réponse : L' école a marqué.....points.