



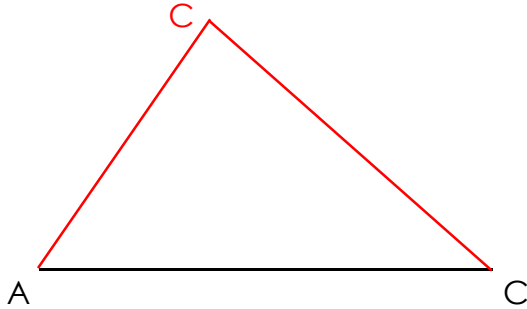
GÉOMÉTRIE

Les triangles (03)

• **Les figures géométriques à 3 côtés et 3 sommets : les triangles**

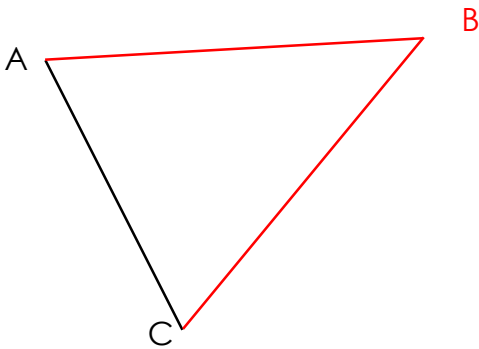
1./ Complète le triangle quelconque suivant tel que :

- AB = 4 cm
- BC = 5 cm
- AC = 6 cm

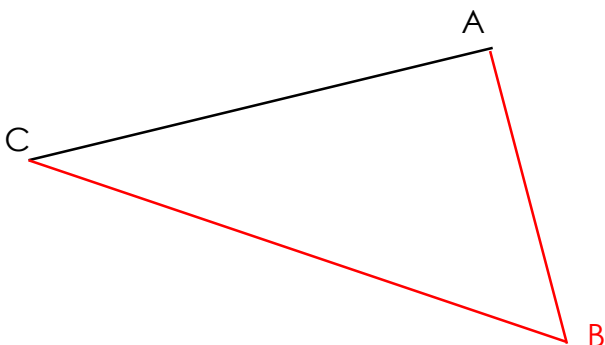


3./ Complète le triangle isocèle suivant tel que :

- AB = BC = 5 cm
- AC = 4 cm

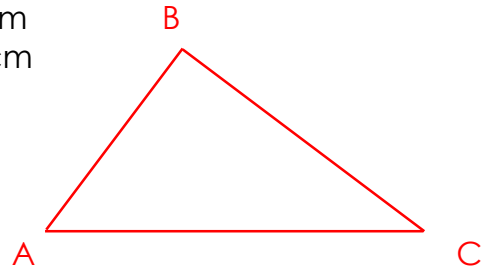


5./ Complète le triangle ABC rectangle en A tel que AB = 4 cm



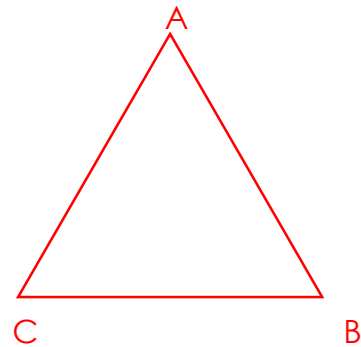
2./ Construis un triangle quelconque tel que :

- AB = 3 cm
- BC = 4 cm
- AC = 5 cm



4./ Construis un triangle équilatéral tel que :

- AB = BC = CA = 4 cm



6./ Construis le triangle ABC rectangle en A tel que :

- AB = 3 cm
- AC = 5 cm

