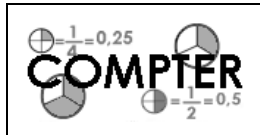


Prénom : .....

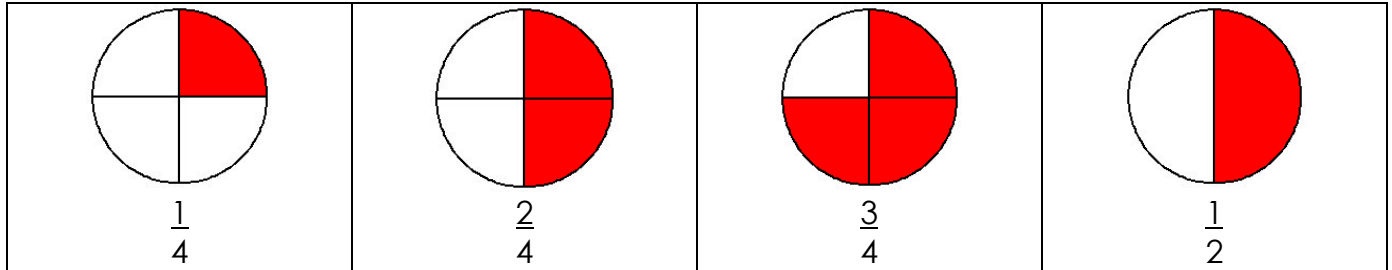
Date : .....



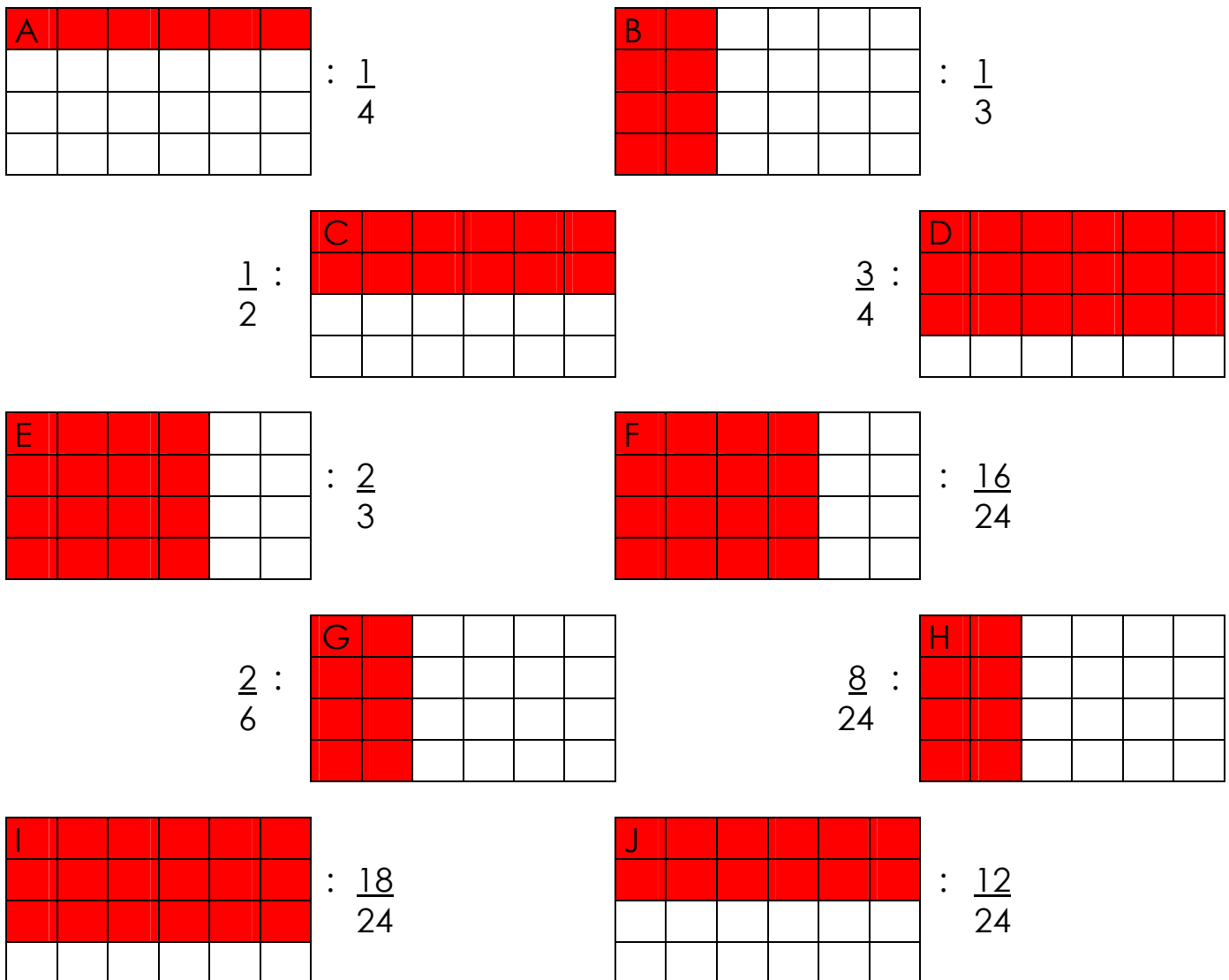
# NUMÉRATION

## Les fractions (01)

1./ Colorie la partie demandée de chacune de ces figures :



2./ Colorie la partie demandée de chacune de ces figures :



- Parmi les figures rectangulaires (A à J), quelles sont celles pour lesquelles tu as colorié la même surface (le même nombre de petits carreaux) ?  
A ton avis pourquoi ?

B, G et H car  $\frac{1}{3} = \frac{2}{6} = \frac{8}{24}$   
 D et I car  $\frac{3}{4} = \frac{18}{24}$

C et J car  $\frac{1}{2} = \frac{12}{24}$   
 E et F car  $\frac{2}{3} = \frac{16}{24}$