

3i

Quelle heure est-il ?

⇒ Une horloge à aiguilles indique 4 h 55 min. **Vers quel nombre** du cadran est pointée la grande aiguille ?


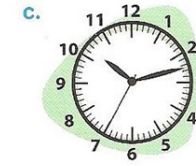
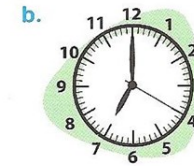
Le nombre pointé par la grande aiguille est le 11.

⇒ Une horloge à aiguilles indique 9 h 15 min 30 s. **Vers quel nombre** du cadran est pointée la trotteuse (l'aiguille des secondes) ?

Le nombre pointé par la trotteuse est le 6.

3J

Quelle heure est-il ?



a) 2 h 24 min 30 s

b) 7 h 00 min 20 s

c) 10 h 12 min 35 s

d) 7 h 50 min 00 s

3K

Multiplications

$$\begin{array}{r} \\ 457 \\ \times 21 \\ \hline 9140 \\ + 457 \\ \hline 9597 \end{array}$$

$$\begin{array}{r} \\ 174 \\ \times 30 \\ \hline 5220 \end{array}$$

$$\begin{array}{r} \\ 481 \\ \times 26 \\ \hline 2886 \\ + 9620 \\ \hline 12506 \end{array}$$

3L

Multiplications

$$\begin{array}{r} \\ 206 \\ \times 17 \\ \hline 1442 \\ + 2060 \\ \hline 3502 \end{array}$$

$$\begin{array}{r} \\ 315 \\ \times 60 \\ \hline 18900 \end{array}$$

$$\begin{array}{r} \\ 355 \\ \times 42 \\ \hline 710 \\ + 14200 \\ \hline 14910 \end{array}$$