

3i

Quelle heure est-il ?

⇒ Une horloge à aiguilles indique 4 h 55 min. **Vers quel nombre** du cadran est pointée la grande aiguille ?

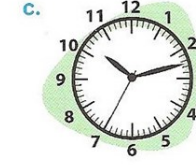
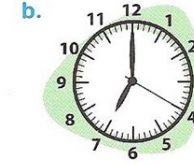

.....

⇒ Une horloge à aiguilles indique 9 h 15 min 30 s. **Vers quel nombre** du cadran est pointée la trotteuse (l'aiguille des secondes) ?

.....

3j

Quelle heure est-il ?



a)

b)

c)

d)

3K

Multiplications

$$\begin{array}{r} 457 \\ \times 21 \\ \hline \end{array}$$

$$\begin{array}{r} 174 \\ \times 30 \\ \hline \end{array}$$

$$\begin{array}{r} 481 \\ \times 26 \\ \hline \end{array}$$

3L

Multiplications

$$\begin{array}{r} 206 \\ \times 17 \\ \hline \end{array}$$

$$\begin{array}{r} 315 \\ \times 60 \\ \hline \end{array}$$

$$\begin{array}{r} 355 \\ \times 42 \\ \hline \end{array}$$