










**Complète.** Dans quelle case y a-t-il 5 fois 10 points ?... Et 6 groupes de 2 points ?...

<p>A</p>  <p>8</p>	<p>D</p>  <p>20</p>	<p>G</p>  <p>40</p>
<p>B</p>  <p>10</p>	<p>E</p>  <p>25</p>	<p>H</p>  <p>50</p>
<p>C</p>  <p>12</p>	<p>F</p>  <p>30</p>	<p>I</p>  <p>60</p>



Combien y a-t-il de points en tout dans 5 groupes de 2 points ?... Et dans 6 fois 5 points ?...

10

30

50

20

60

12



Combien y a-t-il de gâteaux en tout dans 4 paquets de 10 gâteaux ?... Combien y a-t-il de crayons en tout dans 5 boîtes de 5 crayons ?...

40

25

8

30

10

60