

Lire l'heure (H, min) (1/2).

1

La vieille paire de jumelles d'Agatha, qui lui venait de son ancêtre Sherlock Holmes, a disparu !
Lis l'emploi du temps de ces deux suspects et **complète** en indiquant les heures.

Suspect n°1	Suspect n°2
<p>✓ <i>petit-déjeuner</i></p> <p>à <input style="width: 100px; border: 1px solid #ccc;" type="text"/></p>	<p>✓ <i>montée dans le bus</i></p> <p>à <input style="width: 100px; border: 1px solid #ccc;" type="text"/></p>
<p>✓ <i>visite du zoo</i></p> <p>de <input style="width: 100px; border: 1px solid #ccc;" type="text"/></p> <p>à <input style="width: 100px; border: 1px solid #ccc;" type="text"/></p>	<p>✓ <i>piscine</i></p> <p>de <input style="width: 100px; border: 1px solid #ccc;" type="text"/></p> <p>à <input style="width: 100px; border: 1px solid #ccc;" type="text"/></p>
<p>✓ <i>déjeuner au restaurant</i></p> <p>à <input style="width: 100px; border: 1px solid #ccc;" type="text"/></p>	<p>✓ <i>déjeuner chez lui</i></p> <p>à <input style="width: 100px; border: 1px solid #ccc;" type="text"/></p>

Les jumelles ont disparu à 10 h 25. Quel suspect était libre à ce moment-là ?

2

Colorie les étiquettes qui indiquent la même heure que les pendules.



- 8 : 22
 20 : 22
 11 : 43
 10 h 43
 4 h 40
 11 heures quarante-trois




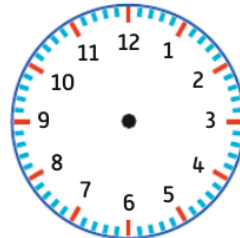
- 5 heures trente
 7 h 42
 8 : 07
 4 : 30
 16 h 30
 20 heures 33

3

Dessine l'aiguille de l'heure en **rouge** et l'aiguille des minutes en **bleu**.

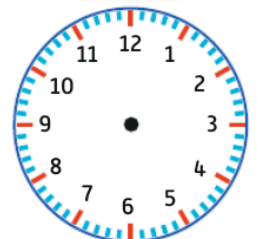
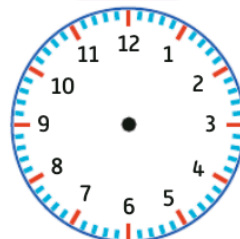
3 : 30

8 : 06



16 : 20

23 : 58



4

PROBLÈME

Écris l'heure de chaque activité, puis **indique** leur ordre dans les cadres.

lecture à



sport à



écriture à



dessin à



.....

.....

.....

.....