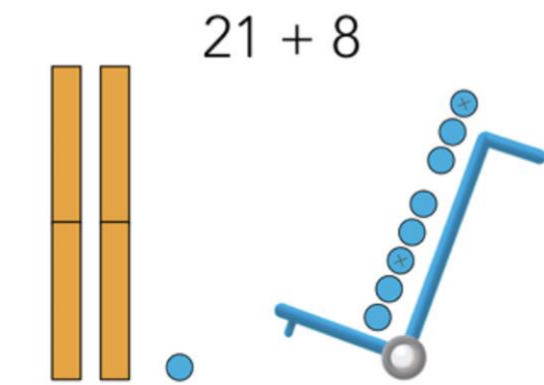


Calcul mental

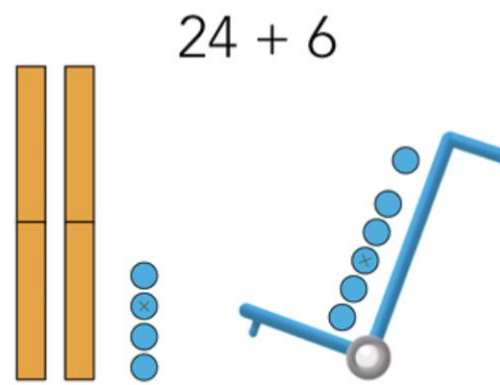
- Compteur (le résultat est le seul support visuel)
- Vingt + trente (somme ≤ 70)



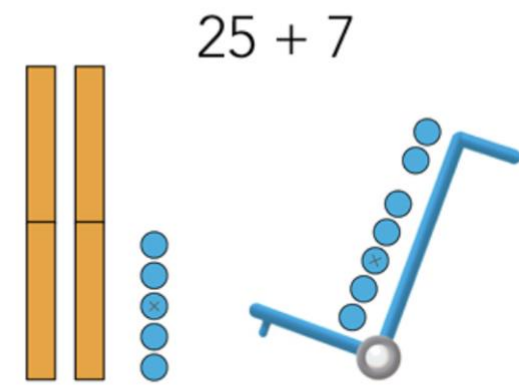
Un nouveau groupe de dix ou non ?



$21 + 8 = 29$



$24 + 6 = 30$



$25 + 7 = 32$

Calcule comme Picbille. (Imagine les groupes de dix et les jetons isolés.)

$35 + 3 = 38$

$26 + 4 = 30$

$35 + 6 = 41$

$12 + 4 = 16$

$15 + 5 = 20$

$17 + 7 = 24$

$41 + 8 = 49$

$12 + 8 = 20$

$28 + 5 = 33$

A

Imagine les dizaines et les unités. Si tu n'es pas sûr(e), dessine.



Un nouveau groupe de dix ou non ?

$45 + 6 = 51$

$31 + 6 = 37$

$63 + 7 = 70$

$25 + 4 = 29$

$53 + 9 = 62$

$31 + 4 = 35$

B

Imagine...

$24 + 30 = 54$

$19 + 20 = 39$

$68 + 10 = 78$

$17 + 50 = 67$

C

Dessine avec le moins de billets et de pièces possible.



D