
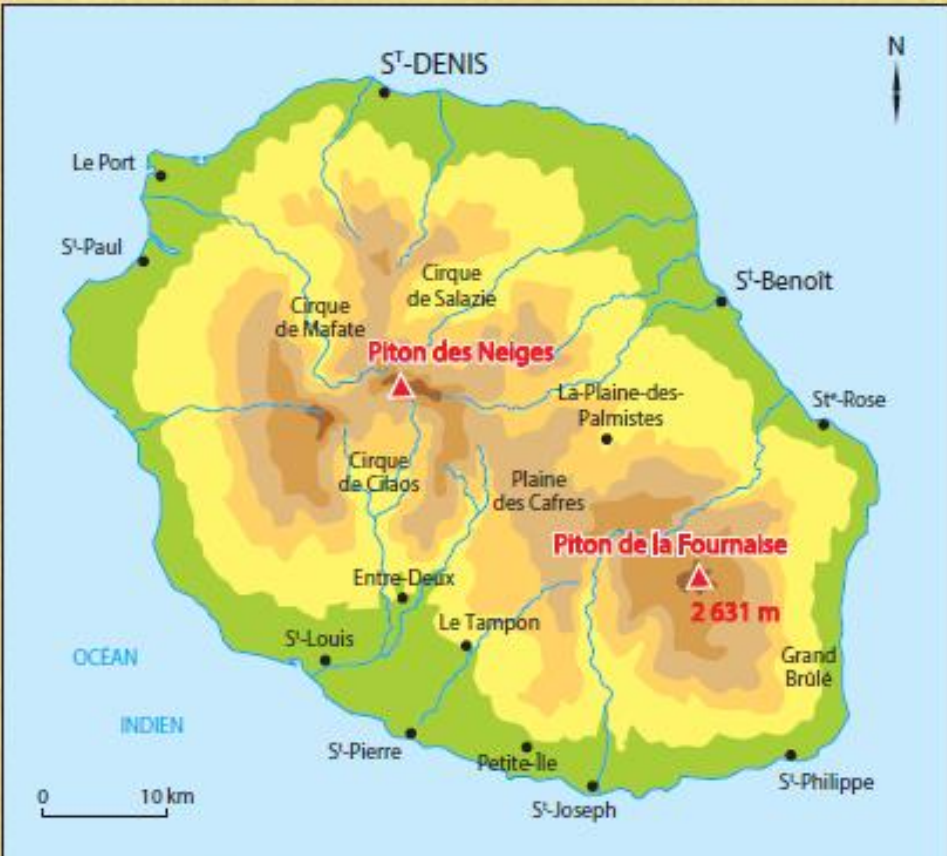


Mardi 19 mai 2020

Il n'est pas nécessaire d'imprimer. Tu peux écrire sur une feuille ou dans un cahier. Je donnerai la correction plus tard.

La Réunion

La Réunion est une île qui se trouve dans l'océan Indien dans l'hémisphère Sud. Ce département et région d'outre-mer français est situé à environ 700 km de Madagascar.



Le piton des Neiges est deux fois plus élevé que le Grand Colombier, situé dans le Jura, qui culmine à 1 535 m.

culminer : atteindre la plus grande hauteur

1-Complète la phrase avec le mot qui convient :

triple tiers double

Le Piton des Neiges mesure le **double** du Grand Colombier.

2-Ecris l'opération qui correspond à la phrase du dessus.

1 535 x 2

3- Décompose comme dans l'exemple.

Exemple : $2\ 683 = 2\ 000 + 600 + 80 + 3$

$1\ 535 = 1\ 000 + 500 + 30 + 5$

4- Calcule comme dans l'exemple.

Exemple : $2\ 683 \times 4 = (2\ 000 \times 4) + (600 \times 4) + (80 \times 4) + (3 \times 4)$

$= 16\ 000 + 2\ 400 + 320 + 12$

$= 18\ 732$

$$\begin{aligned}
 1\ 535 \times 2 &= (1\ 000 \times 2) + (500 \times 2) + (30 \times 2) + (5 \times 2) \\
 &= 2\ 000 + 1\ 000 + 60 + 10 \\
 &= 3\ 070
 \end{aligned}$$

5-Quelle est l'altitude du Piton des Neiges ?

L'altitude du Piton des Neiges est 3 070m.

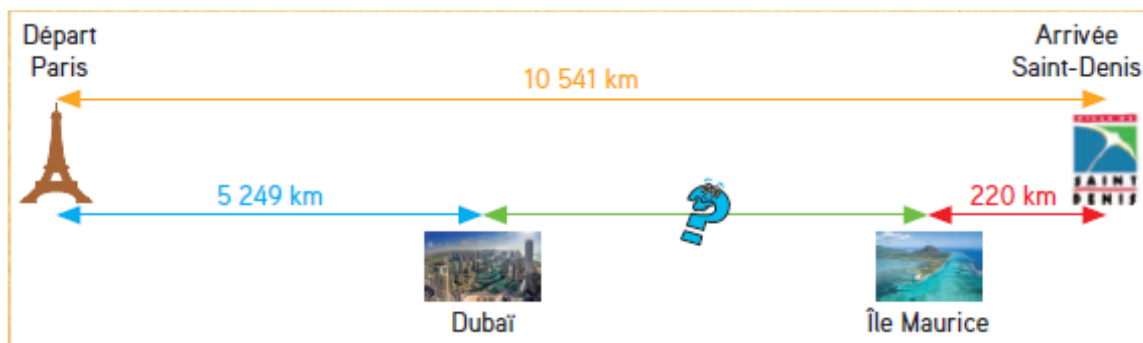
6-Quelle est l'altitude du Piton de la Fournaise ?

L'altitude du Piton de la Fournaise est 2 631m.

7-Quel est le point culminant de la Réunion (le Piton le plus haut) ?

Le point culminant de la Réunion est le Piton des Neiges.

Observe le schéma suivant qui représente le vol de Paris à Saint-Denis avec deux escales. L'une est à Dubaï, l'autre sur l'île Maurice.



8- Quelle est la distance entre Paris et Dubaï ?

La distance entre Paris et Dubaï est 5 249km.

9- Quelle est la distance entre l'île Maurice et Saint-Denis ?

La distance entre l'île Maurice et Saint-Denis est 220km.

10- Quelle est la distance entre Paris et Saint-Denis ?

La distance entre Paris et Saint-Denis est 10 541km.

11- Calcule la distance entre Dubaï et l'île Maurice (tu dois faire deux opérations) :

$$5\,249 + 220 = 5\,469$$

Pour la suite, il y a 2 méthodes possibles

Méthode 1 addition à trou	Méthode 2 soustraction
$5\,469 + ? = 10\,541$	$10\,541 - 5\,469 = ?$
$5\,449 + 5\,072 = 10\,541$	$10\,541 - 5\,449 = 5\,072$

La distance entre Dubaï et l'île Maurice est 5 072km.