

Nom : .....

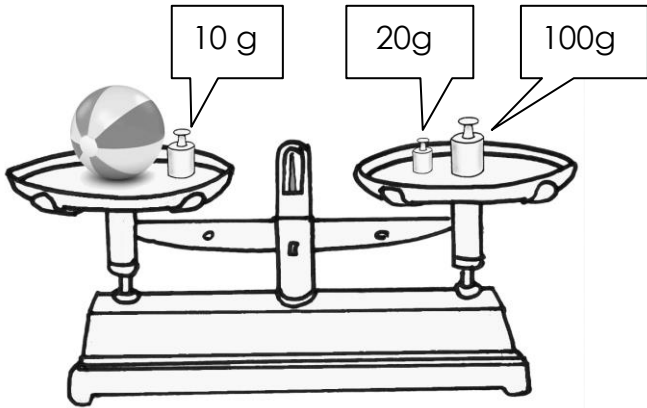
Date : .....

- Savoir utiliser les unités usuelles de mesures. Estimer des masses
- Exprimer une mesure dans l'unité adéquate.

Exercices

Les mesures de masse

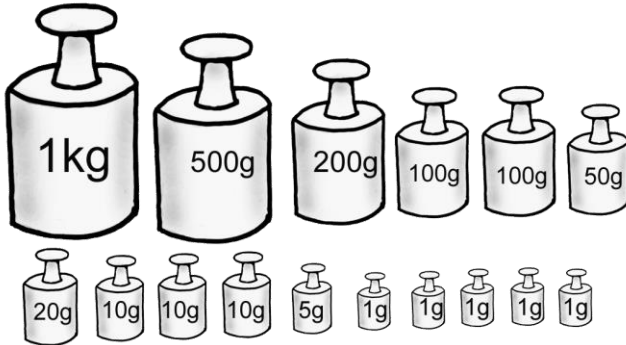
4 Observe et réponds à la question.



Quel est le poids de la balle ?

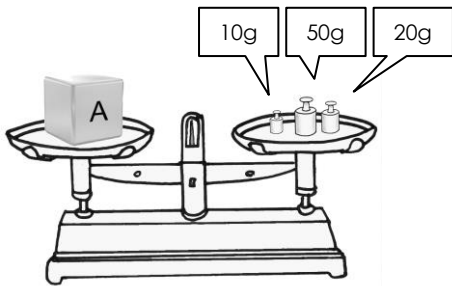
.....

5 Quelle est la masse totale des poids affichés ? Exprime le résultat en kg et en g.

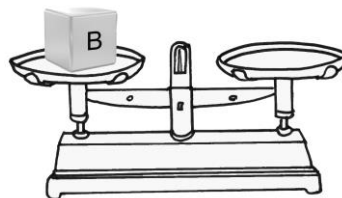


..... kg ..... g

6 En utilisant les masses marquées ci-dessus, indique celles qu'il faut utiliser pour peser les objets.

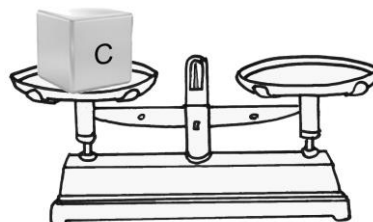


Exemple : A = 80g  
50g + 20g + 10g



B = 357g

.....  
.....



C = 1292 g

.....  
.....