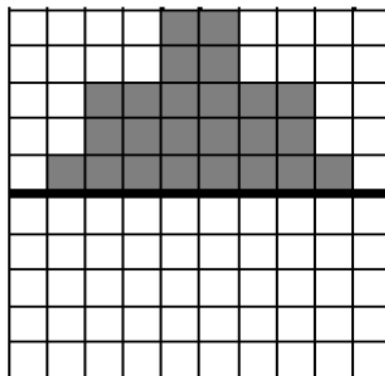
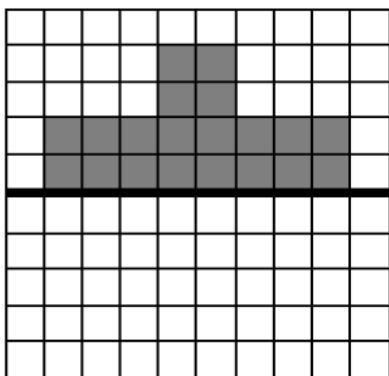
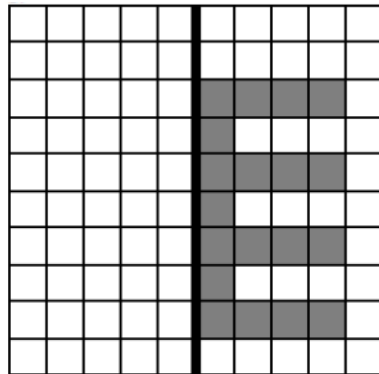
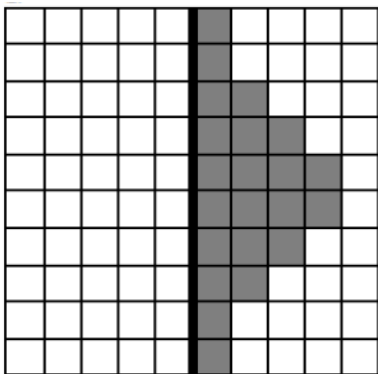


## LA SYMÉTRIE LES FIGURES PLANES

### Exercice 1 :

Sur chaque quadrillage, **colorie** les cases nécessaires pour obtenir **le symétrique** de la figure grise par rapport à l'axe noir.



### Exercice 2 :

**Colorie** les triangles en bleu, les carrés en vert et les rectangles en rouge.

