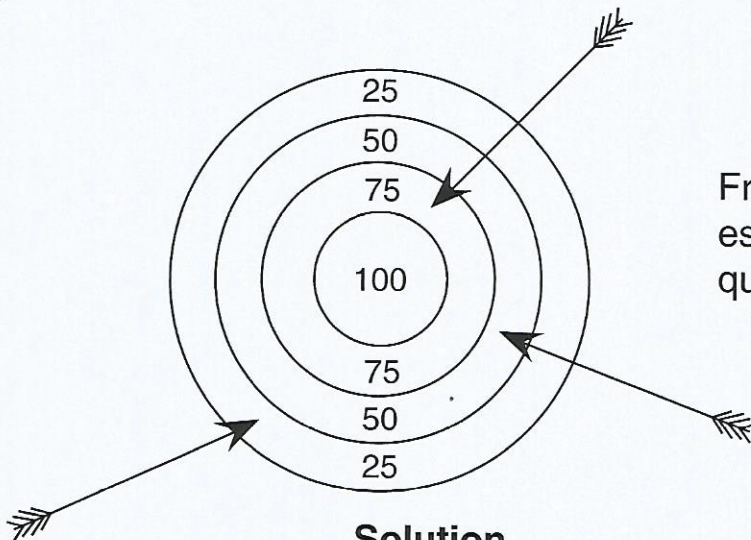




**Entraîne-toi**

Écris la solution de chaque problème.

**A**



Au concours de tir à l'arc, François a tiré 3 flèches. Quel est le nombre total de points qu'il a obtenus ?

**Solution**

Calcul en ligne :

.....

Phrase-réponse :

.....

**Opération**


.....

+ .....

+ .....

.....

**B**



Coffret CD laser  
61 €

Les parents de Guillaume achètent 5 coffrets CD laser à 61 € l'un. Ils paient avec un billet de 500 €.

- 1) Quel est le prix des 5 coffrets ?
- 2) Combien doit-on leur rendre à la caisse ?

**Solution**

**1<sup>ère</sup> question**

Calcul en ligne : .....

Phrase-réponse : .....

.....

**2<sup>ème</sup> question**

Calcul en ligne : .....

Phrase-réponse : .....

.....

**Opérations**

.....

**x** .....

.....

.....

**-** .....

.....

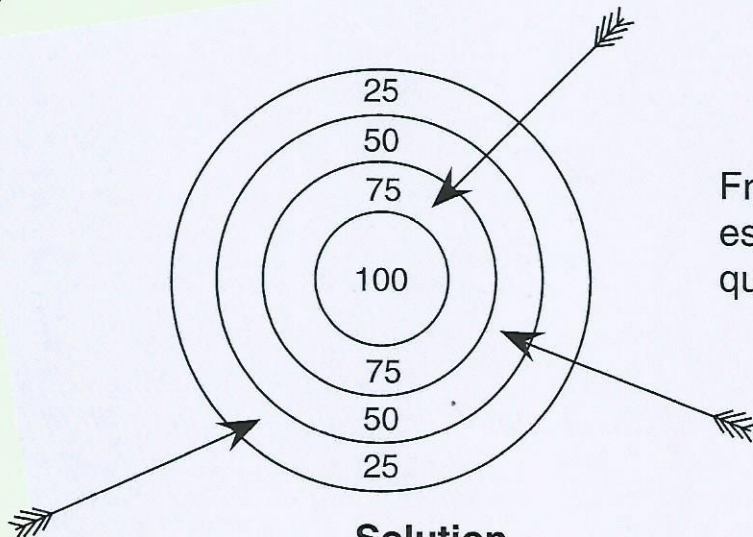




**Entraîne-toi**

Écris la solution de chaque problème.

**A**



Au concours de tir à l'arc, François a tiré 3 flèches. Quel est le nombre total de points qu'il a obtenus ?

**Solution**

Calcul en ligne :


$$75 + 50 + 25 = 150$$

Phrase-réponse : Au total, François a obtenu 150 points.

**Opération**

$$\begin{array}{r} 75 \\ + 50 \\ + 25 \\ \hline 150 \end{array}$$

**B**



Coffret CD laser  
61 €

Les parents de Guillaume achètent 5 coffrets CD laser à 61 € l'un. Ils paient avec un billet de 500 €.

- 1) Quel est le prix des 5 coffrets ?
- 2) Combien doit-on leur rendre à la caisse ?

**Solution**

**1<sup>ère</sup> question**

Calcul en ligne :  $61 \times 5 = 305$

Phrase-réponse : 5 coffrets CD-laser coûtent 305 €.

**2<sup>ème</sup> question**

Calcul en ligne :  $500 - 305 = 195$

Phrase-réponse : À la caisse, on doit leur rendre 195 €.

**Opérations**

$$\begin{array}{r} 61 \\ \times 5 \\ \hline 305 \end{array}$$

$$\begin{array}{r} 500 \\ - 305 \\ \hline 195 \end{array}$$