



**Observe
et lis**

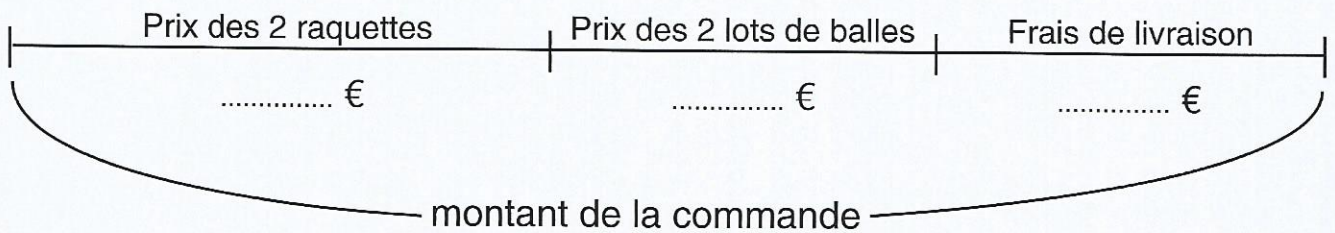
Quel est le montant de cette commande ?

Articles	Prix à l'unité	Nombre	Prix à payer
Raquette de tennis	33 €	2	66 €
Lot de 6 balles	8 €	2	16 €
Frais de livraison		 €
Montant de la commande		 €



Réfléchis

① **Complète le graphique avec les nombres du tableau.**
(Mets un point d'interrogation s'il te manque un renseignement).



② **Entoure la ou les données manquantes pour répondre à la question du problème.**


- Le prix d'une raquette de tennis.
- Le nombre de raquettes commandées.
- Le prix à payer pour les 2 raquettes.
- Le montant des frais de livraison.
- Le prix d'un lot de balles.
- Le nombre de lots de balles commandés.
- Le prix à payer pour les 2 lots de balles.



**Observe
et lis**

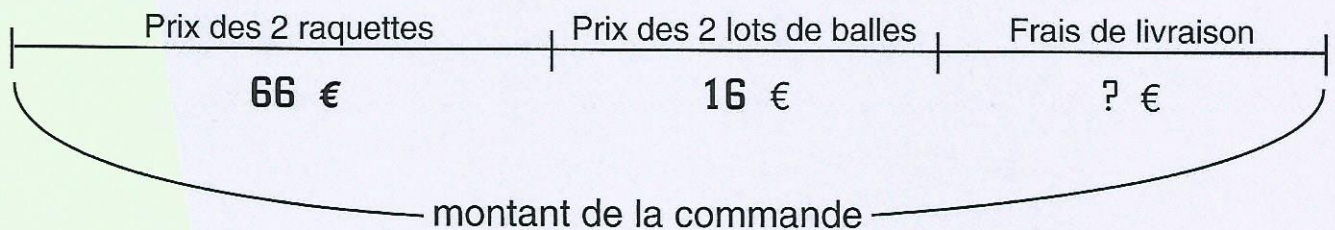
Quel est le montant de cette commande ?

Articles	Prix à l'unité	Nombre	Prix à payer
Raquette de tennis	33 €	2	66 €
Lot de 6 balles	8 €	2	16 €
Frais de livraison		 €
Montant de la commande		 €



Réfléchis

① **Complète le graphique avec les nombres du tableau.**
(Mets un point d'interrogation s'il te manque un renseignement).



② **Entoure la ou les données manquantes pour répondre à la question du problème.**

- Le prix d'une raquette de tennis.
- Le nombre de raquettes commandées.
- Le prix à payer pour les 2 raquettes.
- **Le montant des frais de livraison.**
- Le prix d'un lot de balles.
- Le nombre de lots de balles commandés.
- Le prix à payer pour les 2 lots de balles.