





Exercices de révision des mesures de longueurs.

Rappels :

km kilomètre 1 km = 1 000 m		m mètre 1 m = 10 dm 1 m = 100 cm	dm décimètre 1 dm = 10 cm
--	--	--	--

Exercice 1 : Colorie la mesure de chaque objet.

			
3 m 3 cm 3 dm	20 cm 12 dm 10 m	2 cm 2 dm 2 m	27 cm 15 dm 15 m

Exercice 2 : Combien mesure chaque enfant ? Complète le tableau.

 <p>Je mesure 1 m et 27 cm.</p>	 <p>Je mesure 120 cm.</p>	 <p>Je mesure 11 dm et 3 cm.</p>
---	---	--

Nino	Lali	Agathe
1 m et 27 cm	<input type="text"/> m et <input type="text"/> cm	<input type="text"/> m et <input type="text"/> cm
<input type="text"/> dm et <input type="text"/> cm	<input type="text"/> dm et <input type="text"/> cm	11 dm et 3 cm
<input type="text"/> cm	120 cm	<input type="text"/> cm

Exercice 3 : Complète.

$300 \text{ m} + \text{ } m = 1\,000 \text{ m} = 1 \text{ km}$	$700 \text{ m} + 150 \text{ m} + \text{ } m = 1\,000 \text{ m} = 1 \text{ km}$
$460 \text{ m} + \text{ } m = 1\,000 \text{ m} = 1 \text{ km}$	$3 \text{ km} + 2 \text{ km} = \text{ } \text{ km}$
$1 \text{ km } 100 \text{ m} + 3 \text{ km } 500 \text{ m} = \text{ } \text{ km } \text{ } m$	

Exercice 4 : Colorie de la même couleur les étiquettes qui vont ensemble.

		
La distance Paris-Marseille	3 tours de stade	La hauteur de la classe
<input type="text"/> cm	<input type="text"/> m	<input type="text"/> km
<input type="text"/> m	<input type="text"/> m	<input type="text"/> km
<input type="text"/> m	<input type="text"/> m	<input type="text"/> km
<input type="text"/> m	<input type="text"/> m	<input type="text"/> km