









3) Numération (CM1... et pour les CE2 qui le souhaitent)

La dernière ligne a été corrigée par moi pour vous aider. Aidez-vous aussi de la leçon postée hier.

LES FRACTIONS

Colorie :	Ecris en lettres :	Ecris la fraction :
	Un demi	$\frac{1}{2}$
	Trois quarts	$\frac{3}{4}$
	Deux cinquièmes	$\frac{2}{5}$
	un tiers	$\frac{1}{3}$
	Cinq dixièmes	$\frac{5}{10}$
	Trois tiers	$\frac{3}{3}$
	Deux quarts	$\frac{2}{4}$
	Sept dixièmes	$\frac{7}{10}$