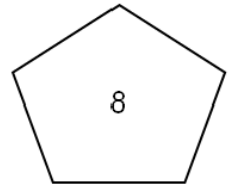
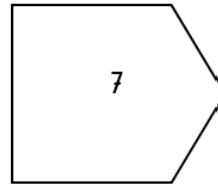
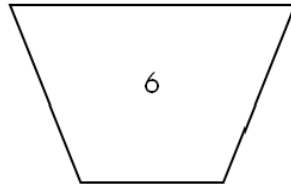
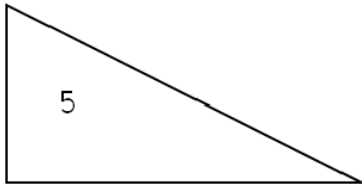
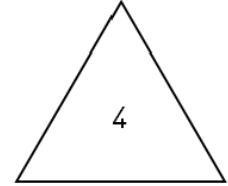
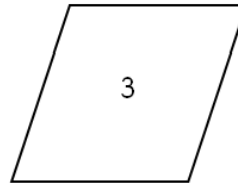
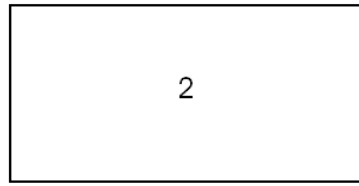
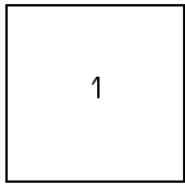


Les polygones - Géométrie - CE1L

Exercice 1 : Observe ces polygones. Décris-les oralement. Puis fais les exercices suivants.



Exercice 2 : Complète avec 3, 4 ou 5.

Un **triangle** a côtés.

Un **quadrilatère** a côtés.

Un **pentagone** a côtés.

Exercice 3 : Colorie les figures ci-dessus selon la légende.

• Bleu : triangles.

• Rouge : quadrilatères.

• Jaune : pentagones.

Exercice 4 : Retrouve la figure décrite par chaque texte et inscris son numéro dans la bulle.

- J'ai 4 côtés.
- Tous mes côtés sont de même longueur.
- J'ai 4 angles droits.

- J'ai 4 côtés.
- Mes côtés opposés sont de même longueur.
- Je n'ai aucun angle droit.

- J'ai 3 côtés.
- J'ai un angle droit.

- J'ai 5 côtés.
- J'ai 2 angles droits.