

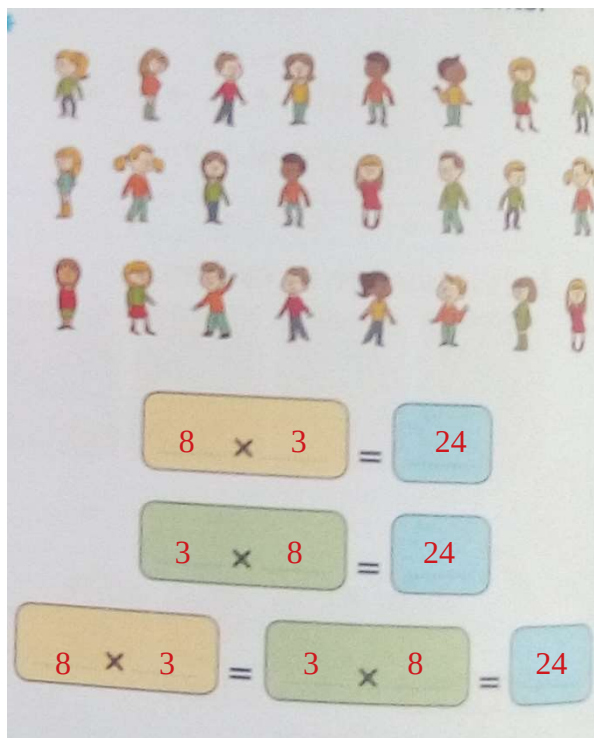
Mathématiques- Fiche de travail n°18

Corrigé

CALCUL

La multiplication: lignes/colonnes

- Consigne 1 : Ecris deux multiplications pour trouver le nombre d'enfants.




- Consigne 3 : Observons la disposition de notre collection double. Nous avons 2 rangées de 3 jetons et 3 colonnes de 2 jetons.

<table> <tr><td>○</td><td>○</td><td>○</td></tr> <tr><td>○</td><td>○</td><td>○</td></tr> </table>	○	○	○	○	○	○	$3 \times 2 = 2 \times 3$
○	○	○					
○	○	○					


- Consigne 4 :

<table> <tr><td>○</td><td>○</td><td>○</td><td>○</td></tr> <tr><td>○</td><td>○</td><td>○</td><td>○</td></tr> </table>	○	○	○	○	○	○	○	○	$4 \times 2 = 2 \times 4$
○	○	○	○						
○	○	○	○						


- Consigne 5 : Fais la même chose avec 5 jetons ; puis 6 ; 7 ; 8 ; 9 et 10.




$$5 \times 2 = 2 \times 5$$




$$6 \times 2 = 2 \times 6$$




$$7 \times 2 = 2 \times 7$$



$$8 \times 2 = 2 \times 8$$



$$9 \times 2 = 2 \times 9$$



$$10 \times 2 = 2 \times 10$$

PROBLEME pour apprendre à chercher :

Le zoo

	Je peux répondre : la réponse est dans le texte	Je peux répondre en faisant un calcul	Je ne peux pas répondre
À quelle heure prennent-ils le car ? (à 8h30)	X		
Combien y a-t-il de personnes dans le zoo ?			X
Combien le maitre a-t-il dépensé pour Pique-nique ?		X	


4 – Même consigne avec des nouvelles questions :

	Je peux répondre : la réponse est dans le texte	Je peux répondre en faisant un calcul	Je ne peux pas répondre
Combien le maitre va-t-il payer les entrées ?		X	
Combien y a-t-il d'élèves dans le zoo ?			X
Quel est le prix des bonbons ?			X
Le zoo est-il ouvert le samedi ?	X Ouvert tous les jours		

5- Réponds à la question suivante :

a- Combien le maître a-t'il dépensé pour le pique-nique ?

Schéma :



Sandwichs
50 euros



Boissons
70 euros

Calcul :

$$50 + 70 = 5d + 7d = 12d = 120$$

Phrase-réponse :

Le maître a dépensé 120€ pour le pique-nique.