

Corrections du vendredi 10 avril

1- Exercice d'orthographe :

④ La feuille tombe.

Cette photo est belle.

Un enfant joue.

Mon œuf est frais.

2- Grammaire :

1) Remplace par il, ils, elle ou elles :

Le clown entre sur la piste, le clown trébuche, le clown tombe.

Le clown entre sur la piste, il trébuche, il tombe.

Nathalie s'approche du bord de la piscine, Nathalie plonge, Nathalie nage.

Nathalie s'approche du bord de la piscine, Elle plonge, elle nage.

La galette roule, roule; la galette parle au renard et la galette est croquée.

La galette roule, roule; elle parle au renard et elle est croquée.

Les enfants arrivent à l'école, les enfants retrouvent leurs camarades, les enfants, jouent et

les enfants rentrent en classe.

Les enfants arrivent à l'école, ils retrouvent leurs camarades, ils, jouent et

ils rentrent en classe.

Les tortues avancent doucement, les tortues portent leur maison sur le dos.

Les tortues avancent doucement, elles portent leur maison sur le dos.

2) Ecris il, ils, elle ou elles :

Thomas mange un bonbon. Maintenant, il a soif.

La voiture ne roule plus, elle est en panne.

Le vent souffle, il arrache les arbres.

Mes livres sont anciens, **ils** sont déchirés.

Les deux fillettes parlent sans arrêt **elles** sont bavardes.

3-Mathématiques:

Travail sur le calendrier

Février 2018

LUNDI	MARDI	MERCREDI	JEUDI	VENDREDI	SAMEDI	DIMANCHE
29	30	31	1	2	3	4
5	6	7	8	9	10	11
12	13	14	15	16	17	18
19	20	21	22	23	24	25
26	27	28	1	2	3	4

une semaine

Il s'agit de quel mois ? Il s'agit du mois de février.

Ce mois comporte combien de jours ? Il comporte 28 jours. Une fois tous les quatre ans, il a 29 jours, on dit que c'est une année bissextile, 2020 est une année bissextile, puisque le mois de février comportait 29 jours.

Entoure une semaine.

Combien de jours dans une semaine? Une semaine comporte 7 jours.

Combien y a-t-il de mardis ? 4 mardis

Combien y a-t-il de dimanches ? 4 dimanches

Entoure le 20 février.

4-Lecture

LECTURE D'INFÉRENCES 5


CE1

<p>1</p>	<p>Julien s'installa sur la selle, mit son casque et démarra. <i>Sur quoi est assis Julien?</i></p> <p>Julien est assis sur une moto. (ou un scooter, une mobylette, et même un vélo)</p>
<p>2</p>	<p>Le garagiste ferma le capot et dit à Papa : « Je ne peux pas réparer ça tout de suite, il faut me la laisser jusqu'à demain. » <i>Qu'est ce qui doit être réparé ?</i></p> <p>La voiture doit être réparée.</p>
<p>3</p>	<p>« Maman, j'ai fait une grosse bêtise... » Maman, rentra dans le salon et soupira en voyant le verre cassé, l'eau renversée et les fleurs sur le carrelage. <i>Quelle bêtise a fait cet enfant ?</i></p> <p>L'enfant a cassé un vase.</p>
<p>4</p>	<p>Frédéric descendit de son vélo et dit bonjour à Madame Dupré en lui tendant deux lettres et une carte postale. <i>Quel est le métier de Frédéric ?</i></p> <p>Le métier de Frédéric est facteur.</p>



F5 - Penser pour réussir

insti90



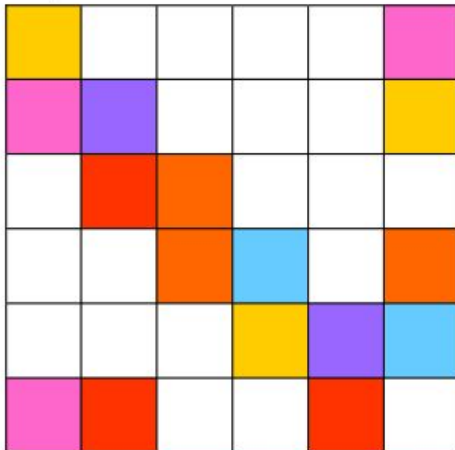
Mais qui pourrait dire ça ? Ecris le numéro des « aquariums » à côté des bons textes.

<p><i>Gloup ! Gloup !</i> A3 <i>j'aimerais tellement avoir un ami !</i></p>	<p>B1 Nous en avons assez de tourner en rond ! On se bouscule toutes les deux minutes !</p>	<p>C6 <i>Tra, lala !</i> Je suis comme un poisson dans l'eau !</p>
<p>Que c'est beau ! D2 J'aimerais tellement pouvoir nager sous l'eau, aussi longtemps qu'un poisson !</p>	<p>E4 Trois poissons rencontrent trois poissons et se disent : « Bonjour, l'eau est bonne aujourd'hui ! »</p>	<p>F5 <i>Clap ! Clap !</i> <i>Gare à vos nageoires !</i></p>

5-DEFIS MATHS:

Defi 1

Reproduisez la même chose :



Defi 4

Malia est entre Toma et Tibo.
Jade est à côté de Tibo.
Toma n'a pas de lunettes.

QUI EST QUI ?

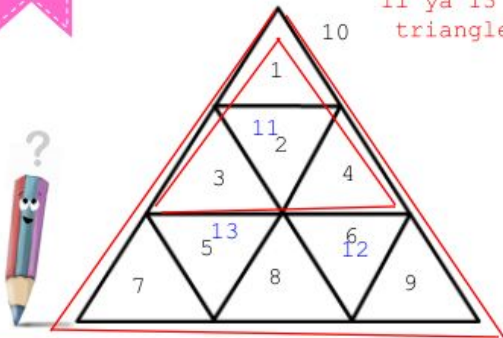


1 Toma 2 Malia 3 Tibo 4 Jade

Defi 2

Combien y a-t-il de triangles ?

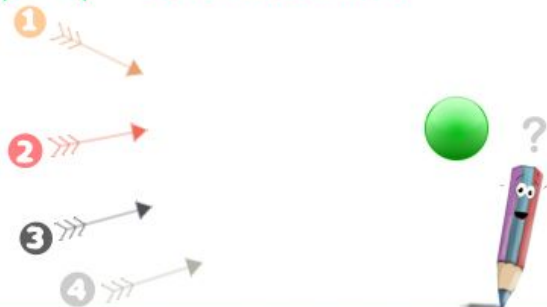
Il ya 13 triangles.



Defi 5


Quelle flèche touchera la balle ?

La flèche numéro 3



Defi 3

La maitresse veut donner autant de fichiers que de gommes...
Quel est son problème ?

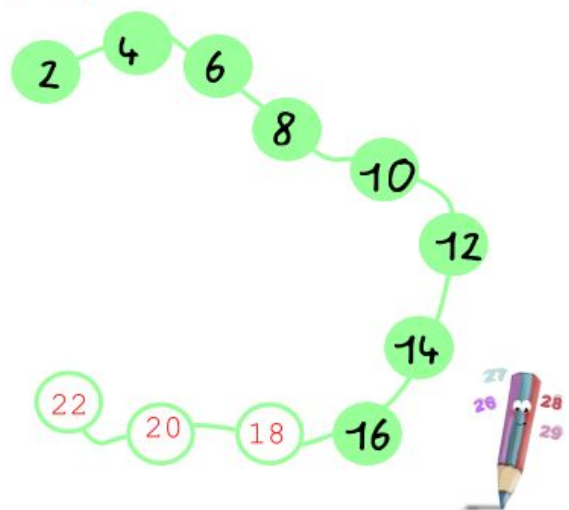


Il lui manque 2 fichiers jaunes et 3 fichiers mauves.



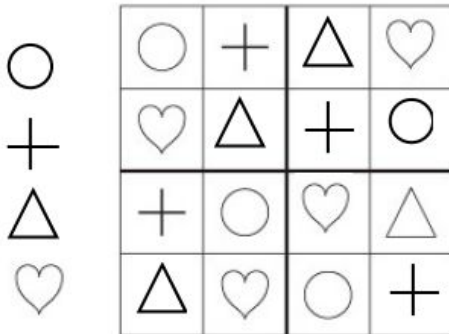
Defi 7

Continuez la suite...




Defi
7

Les 4 éléments doivent se trouver sur chaque ligne, dans chaque colonne et dans chaque carré.
Dessinez-les à la bonne place.



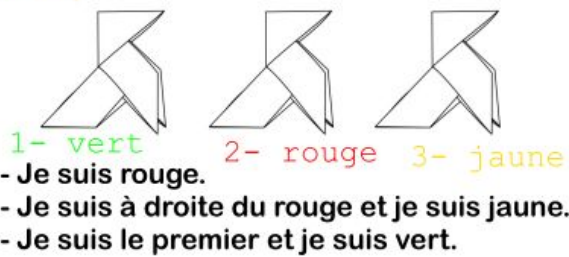
Defi
10

Chaque chat attrape 2 souris.
Combien de souris sont attrapées ?



Defi
3

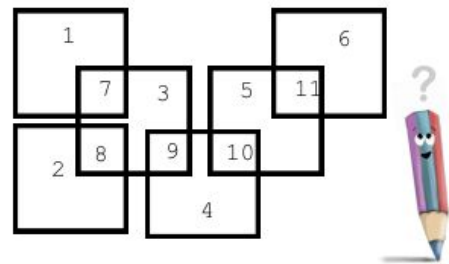
Coloriez selon les indications.



Defi
11

Combien y a-t-il de carrés ?

Il y a 11 carrés.



Defi
9

Un peu de calcul...
Coloriez de la même couleur les calculs qui ont le même résultat.

$2 + 5$ jaune	$3 + 3$ vert
$1 + 4$ bleu	$6 + 0$ vert
$7 + 0$ jaune	$3 + 2 + 2$ jaune
$3 + 2$ bleu	$3 + 4$ jaune
$6 + 1$ jaune	$2 + 4$ vert
$2 + 1 + 2$ bleu	$2 + 4 + 1$ jaune

Defi
12

La maison de la maitresse.

Sa maison a 5 fenêtres.
Il n'y a pas de petits carreaux.
La porte est à gauche.
La cheminée est à droite.

Quelle est la maison de la maitresse ?

