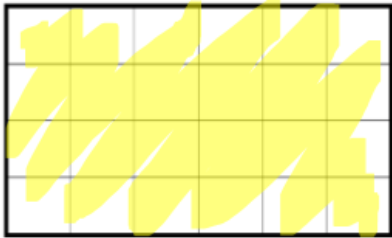


Leçon 15 : Les aires

L'aire d'une figure est la **mesure de sa surface**.

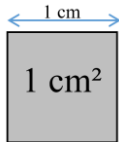


Aire = 24 carreaux

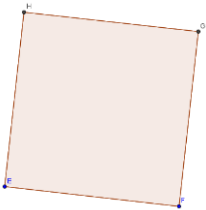
Pour calculer l'aire d'une figure, on utilise une unité et on cherche le nombre **d'unités d'aire** qu'elle contient.

Si l'unité d'aire est un carré d'un mètre de côté, son aire est alors de « 1 mètre carré », qu'on note **1 m²**.

L'unité de base utilisée pour mesurer des aires est le m², mais on utilise aussi le **cm²** :



⇒ **L'aire du carré**

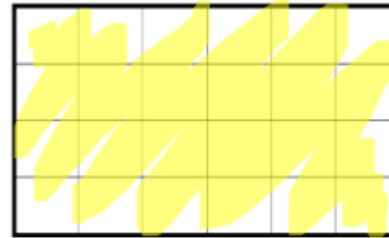


Longueur du côté

AIRE = longueur du côté x longueur du côté

Leçon 15 : Les aires

L'aire d'une figure est la **mesure de sa surface**.

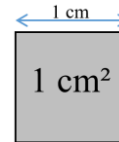


Aire = 24 carreaux

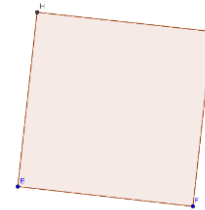
Pour calculer l'aire d'une figure, on utilise une unité et on cherche le nombre **d'unités d'aire** qu'elle contient.

Si l'unité d'aire est un carré d'un mètre de côté, son aire est alors de « 1 mètre carré », qu'on note **1 m²**.

L'unité de base utilisée pour mesurer des aires est le m², mais on utilise aussi le **cm²** :



⇒ **L'aire du carré**



Longueur du côté

AIRE = longueur du côté x longueur du côté