

Les petits lapins

1 petit lapin
rencontre...



...un autre petit
lapin.



2 petits lapins
jouent dans le jardin.



2 petits lapins
rencontrent...



...un autre petit
lapin.



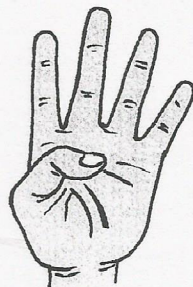
3 petits lapins
jouent dans le jardin.



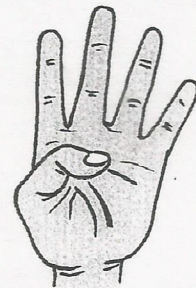
3 petits lapins
rencontrent...



...un autre petit
lapin.



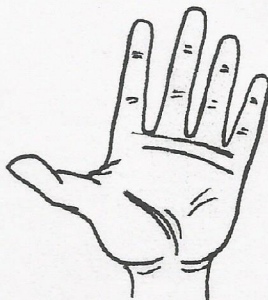
4 petits lapins
jouent dans le jardin.



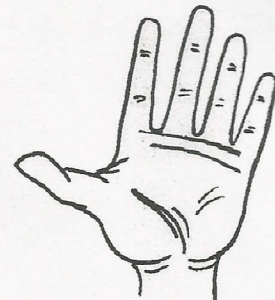
4 petits lapins
rencontrent...



...un autre petit
lapin.



5 petits lapins
jouent dans le jardin.



Après
les
et l

Des

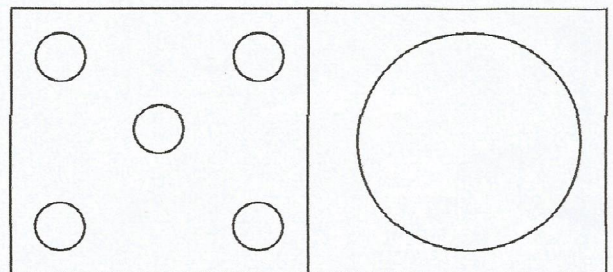
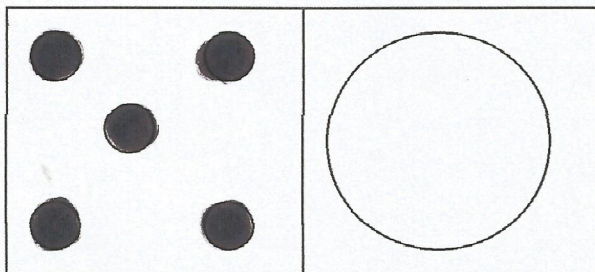
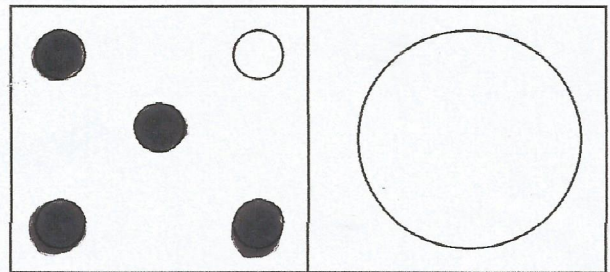
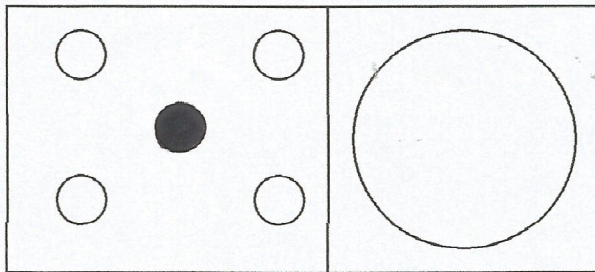
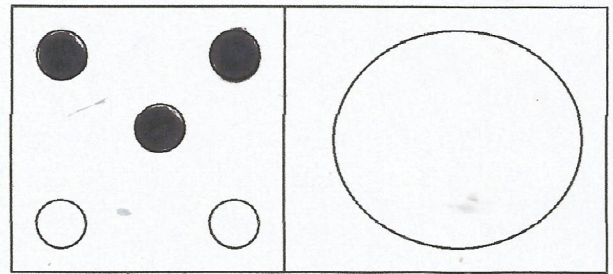
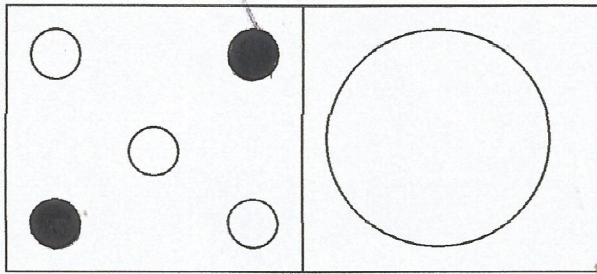
Les quantités et les nombres : le jeu du lapin

Compétence : trouver les compléments d'un nombre à 5

Consigne : Dessine le nombre de lapins cachés sous le gobelet.

a) Les 5 choux sont viables

1	2	3	4



b) Les 5 choux sont invisibles

1	2	3	4

