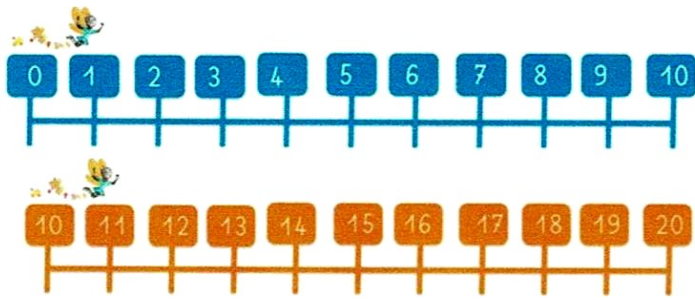
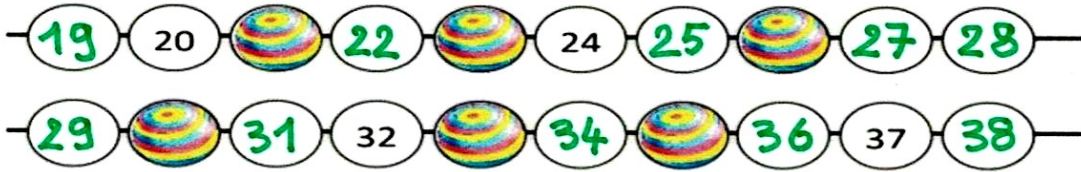
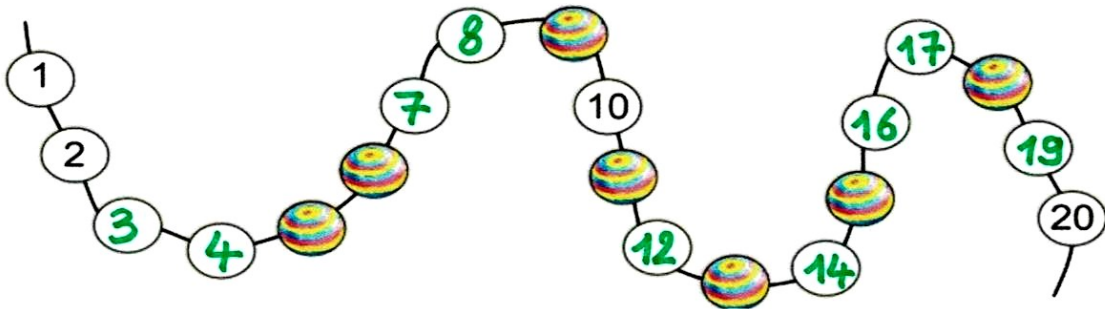


1- **Observe** les axes des nombres.



2- **Cache** les axes ci-dessus et **complète** les perles blanches des colliers.



3- **Cache** les axes ci-dessus et **complète**.



Attention, il n'y a plus les repères de chaque nombre. Choisis les bons nombres.



?
25 12 11
19 9 15



?
14 16 19
27 7 11



?
29 19 11
25 36 47



?
25 16 31
14 26 21