

Bonjour !!!!

* vocabulaire

Une laverie

Une laverie est une boutique avec des machines à laver. On peut venir y laver son linge.



24
avril
Saint Fidèle

Comment appelle-t-on une machine qui sèche le linge ?

Un sèche-linge ou un séchoir.

Est-ce que tu sais comment s'appelle le petit animal qui est sur l'image ?

Dans le mot , il y a « *lav...* »



Un raton laveur

* lecture compréhension

Ouvre ton livre p 60/61.

Il y a beaucoup d'informations sur le loup , tu dois apprendre à les trouver rapidement sans tout relire

Dans les textes documentaires, les informations sont regroupées par « thèmes ».

Montre avec ton doigt où tu vas trouver des informations sur :

- la nourriture du loup
- les petits du loup
- comment se déplace le loup

- Maintenant, regarde 2 p 63 et lis ce qui est écrit autour de la photo.

... et trouve de quoi il s'agit (réponds sur ton cahier) :

				
la mâchoire	le pelage	la queue	les oreilles	les yeux

a) Elle est longue et touffue . C'est

b) Elles sont orientables pour mieux entendre . Ce sont.....

c) Il est imperméable pour le protéger de la pluie. C'est.....

d) Ils lui permettent de voir ses proies de loin. Ce sont.....

e) Elle a 42 dents pour mieux broyer les os. C'est.....

*** lire/ écrire**

J'ai séparé toutes les syllabes à toi d'écrire la phrase en retrouvant les mots

Le lou ve teau est le pe tit du loup et de la lou ve .

*** lecture code**

Dans les mots 2 p 62, il y avait des mots un peu difficiles Lis - les et montre l'image qui correspond.

un kayak	une cruche	un crampon	un okapi	une cravache
				

*** Trouve chaque fin de phrase (sur ton cahier tu peux écrire « le moustique » et noter à côté le numéro de fin de phrase)**

1	Le moustique ●	a ● est un animal marin.
2	Le kangourou ●	b ● pique la peau.
3	Le requin ●	c ● porte son petit sur le dos.
4	Le koala ●	d ● porte son petit dans sa poche.












Trouve la phrase qui correspond à cette image !

* maths :

Compléments à 10 :

Cherche rapidement trois façons de faire 10, écris les additions :

 10  3				
				

* calcule en ligne :

$24 + 12 = 20 + 4 + 10 + 2$ $24 + 12 = \dots 30 \dots + \dots 6 \dots$ $24 + 12 = \dots \dots \dots$	$25 + 32 = 20 + 5 + \dots \dots \dots + \dots \dots \dots$ $25 + 32 = \dots \dots \dots + \dots \dots \dots$ $25 + 32 = \dots \dots \dots$
$17 + 31 = \dots \dots \dots + \dots \dots \dots + \dots \dots \dots + \dots \dots \dots$ $17 + 31 = \dots \dots \dots + \dots \dots \dots$ $17 + 31 = \dots \dots \dots$	$35 + 23 = \dots \dots \dots \dots \dots \dots \dots \dots \dots$ $35 + 23 = \dots \dots \dots \dots \dots \dots$ $35 + 23 = \dots \dots \dots \dots \dots \dots$

et

29 + 33 =

Attention ! Cette addition est un peu différente !
Tu peux dessiner les dizaines et les unités pour la faire et on la corrigera la prochaine fois .

* écris en lettres (je te mets les mots pour t'aider)

quatre - soixante - dix - vingt - onze - un - et

91 →

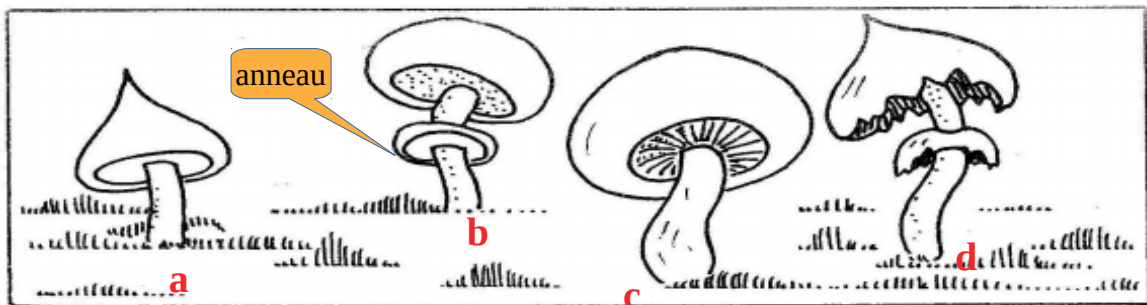
71 →

61 →

81 →

* problèmes de logique

Combien de moutons sont cachés derrière la barrière ?



Le champignon rouge a un chapeau rond mais pas d'anneau.
Le champignon vert a un chapeau pointu et un anneau.
Le champignon jaune a un chapeau rond et un anneau.
Le champignon bleu a un chapeau pointu mais pas d'anneau.

* calcul rapide ! Entraîne-toi à être toujours rapide sur les petits calculs !

<https://micetf.fr/calculmental/?action=calculer&niveau=cp&numero=030>

