

Bonjour,

\* vocabulaire

# Une laverie

Une laverie est une boutique avec des machines à laver. On peut venir y laver son linge.



Comment appelle-t-on une machine qui sèche le linge ?

24  
avril  
Saint Fidèle

Un sèche-linge ou un séchoir.


Est-ce que tu sais comment s'appelle le petit animal qui est sur l'image ?


Dans le mot, il y a « *lav...* »  
*(souviens-toi des familles de mots!)*



Un raton laveur

\* sons, relis bien les mots suivants (ils contiennent tous la lettre g)




**g**  **une girafe**


le **g**enou  
les **g**ens  
une **g**age  
du **g** fromage  
une **g** page  
la **g** plage  
les **g** nuages  
de la **g** neige  
un **g** singe  
mon **g** village  
une **g** orange  
une **g** bougie  
la **g** magie  
un **g** magicien  
la **g** gymnastique

**g**entil, **g**entils,  
**g**entille, **g**entilles  
**g** rouge, **g** rouges  
**g** sage, **g** sages  
**g** fragile  
**g** magique

neiger : il **g** neige

manger :  
je **g** mange  
nager :  
je **g** nage

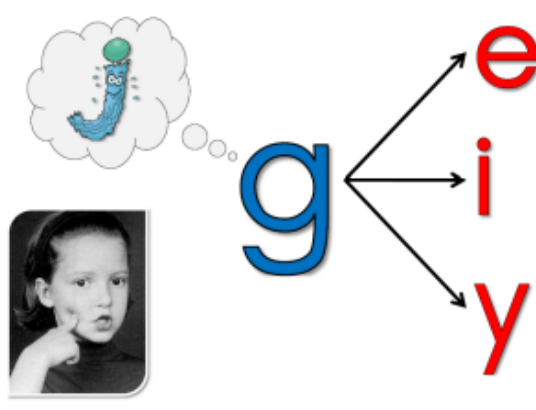
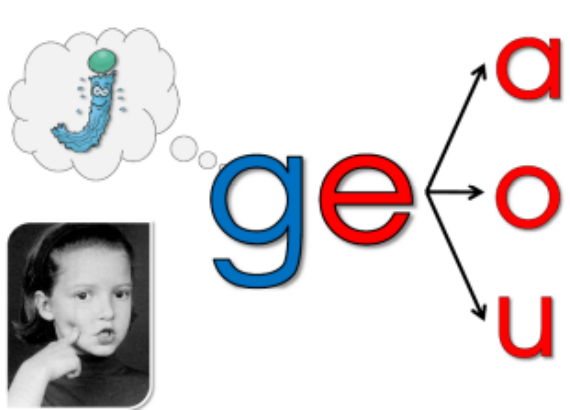


**ge**  **un pigeon**

un **g** bourgeon  
le **g** plongeur  
un **g** bougeoir






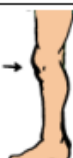
nous **g** mangeons  
en **g** mangeant  
nous **g** nageons  
en **g** nageant

Maintenant, observe cette règle d'orthographe : quand dois-tu mettre le « e » pour entendre le son [j] avec la lettre « g » ?



**Complète avec G ou GE pour obtenir le son [J]**

**Sur ton cahier !**

le pi_ <b>ge</b> on 	le na_ <b>g</b> eur 	il plon_ <b>g</b> e 
la _ <b>g</b> irafe 	la na_ <b>ge</b> oire 	le _ <b>g</b> enou 

**\* grammaire**

N'oublie pas le genre des noms



regarde :

<https://lesfondamentaux.reseau-canope.fr/video/le-genre-feminin-et-masculin.html>



et pour passer du genre féminin au masculin .....

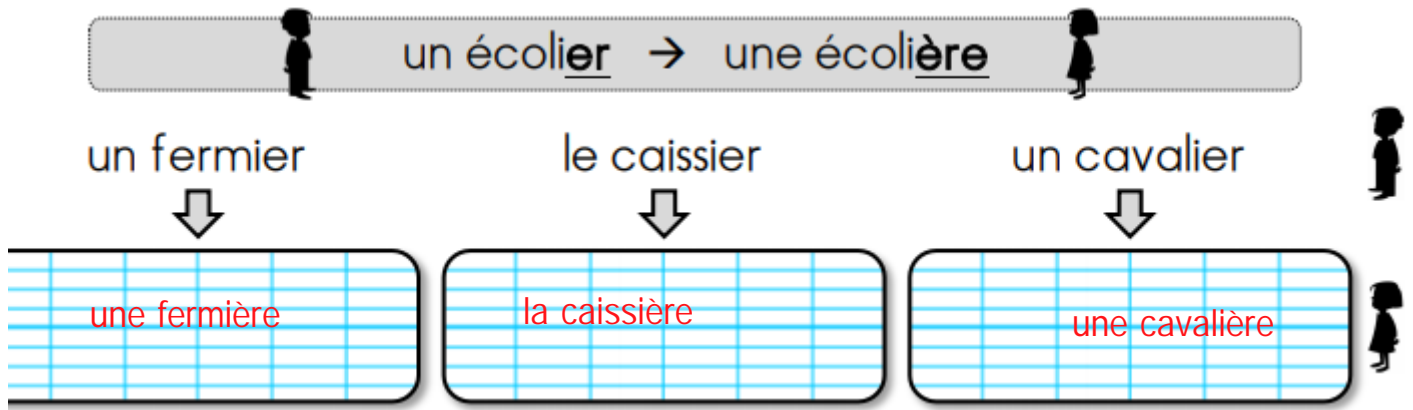
<https://lesfondamentaux.reseau-canope.fr/video/le-feminin-des-noms-1.html>

à toi !!!

 le facteur → la factrice 

un traducteur	le directeur	l'instituteur
↓	↓	↓
une traductrice	la directrice	l'institutrice



**\* le nombre du nom :**

Lis ce texte , silencieusement puis à voix haute :

**Quel vantard !**

« Moi, j'ai marqué un but au foot ! déclare Simon, fier de lui.  
 – Pfeuu... c'est nul ! répond Max qui veut toujours être le plus fort. Moi, j'ai marqué cinq buts !  
 – J'ai aussi gagné une bille ! lui répond Simon.  
 – Minable ! renchérit Max d'un ton moqueur, moi j'ai gagné six billes !  
 – Eh bien moi, j'ai fait une faute à ma dictée, ajoute-t-il d'un petit air malin.  
 – Ah ! oui... eh bien moi, j'ai fait dix fautes... »  
 Max s'aperçoit trop tard de ce qu'il vient de dire...  
 Simon et tous ses copains éclatent de rire !

Reproduis ce tableau sur ton cahier (fais-toi aider ) et remplis-le en écrivant le nombre de billes, buts et fautes en lettres !

	Simon	Max
<b>But (buts)</b>	un but	cinq buts
<b>Bille (billes)</b>	une bille	six billes
<b>Faute (fautes)</b>	une faute	dix fautes

\* lecture : lis ce dernier documentaire ... C'est pour te montrer que d'un documentaire à un autre les informations peuvent être les mêmes ou peuvent être un peu différentes . Ensuite , sur ton cahier , écris les informations principales.



Le loup est un animal de la famille des *canidés*, comme le chien.

Il a un pelage gris. Son museau est pointu, ses oreilles dressées et sa queue pendante.

Un loup adulte mesure environ 1,50 mètre de longueur et 75 cm de hauteur. Il pèse de entre 30 et 55kg. Le loup a 42 dents.

Il peut vivre 12 ans en liberté et 18 ans en captivité.

### Le loup vit en meute

Les loups vivent en **meute**. La meute est une famille composée de deux parents loups qui dirigent et de loups et louveteaux. Elle peut compter jusqu'à 12 loups. Les loups hurlent pour rassembler la meute.

### Un animal carnivore

Le loup chasse en meute des gibiers : des cerfs, de petits sangliers, des volailles...

### Les loups sont des mammifères

La maman louve attend les petits pendant deux mois. Ils naissent au printemps. Trois à huit **louveteaux** naissent par portée.

Sur ton cahier !

#### CARTE D'IDENTITÉ :

**Poids :** ...entre 30 et 55 kg

**Taille :** 1,50m de longueur  
et 75 cm de hauteur



#### ALIMENTATION :

**Il mange :** du gibier , il est carnivore.

#### SES DEPLACEMENTS :

**Il se déplace en**...meute.....  
.....  
.....

#### SA FAMILLE :

**Le mâle :** le loup.....

**La femelle :** .....la louve.....

**Les petits :** les louveteaux.....

\* maths :

Tu as déjà vu cette vidéo sur la soustraction sans retenue , tu peux la regarder encore une fois !

<https://lesfondamentaux.reseau-canope.fr/discipline/mathematiques/operations/calcul-pose-de-soustractions/soustraire-des-entiers-sans-retenue.html>

The diagram shows two subtraction problems side-by-side. On the left,  $75 - 52 = 23$  is shown. A callout bubble above the tens column says "5 - 2 = 3". A callout bubble below the entire problem says "C'est une soustraction sans retenue !". On the right,  $62 - 45$  is shown. A callout bubble above the tens column says "2 - 5 = ce n'est pas possible" with a red 'X' over it. A callout bubble below the entire problem says "C'est une soustraction à retenue, on apprendra à la faire plus tard !".

Regarde bien ces deux soustractions ..... Tu vas apprendre à reconnaître les soustractions sans retenue.

Fais sur ton cahier les soustractions suivantes. **Ne fais que les soustractions sans retenue !!!!** Pour les autres, on verra un peu plus tard .....

Four subtraction problems are shown in dashed boxes. The first is  $63 - 21 = 42$ . The second is  $54 - 26$  with red text "je ne peux pas faire" and "4 - 6!". The third is  $76 - 49$  with red text "je ne peux pas faire" and "6 - 9!". The fourth is  $98 - 20 = 78$ .

\* Calcule rapidement :

$389 - 100 = 289$

$432 - 10 = 422$

$851 - 20 = 831$

$742 - 200 = 542$

$400 - 1 = 399$

\* numération :

Ecris les nombres en comptant de 10 en 10.

604	614	624	634	644	654	664	674	684	694	704	714	724
-----	-----	-----	-----	-----	-----	-----	-----	-----	-----	-----	-----	-----



Ecris le nombre avant et le nombre après.

699   **700**   701

899   **900**   901

299   **300**   301

Ecris les nombres en chiffres.

a  $8 \text{ unités} + 7 \text{ dizaines} + 4 \text{ centaines} =$ 

4	78

b  $5 \text{ centaines} + 2 \text{ unités} + 9 \text{ dizaines} =$ 

5	92

c  $10 \text{ dizaines} + 4 \text{ unités} =$ 

1	04

\*problème

Gustave a 68 ans. Il a 62 ans de plus que sa petite fille Margot.

Quel âge a Margot ?

$$\begin{array}{r} 68 \\ -62 \\ \hline 06 \end{array}$$

Margot a 6 ans .



.... pour finir, amuse-toi à dessiner un loup !

