


Mardi 28 avril 2020 CE1

Bonjour !

\* vocabulaire

# Un médaillon


Un médaillon est un bijou en forme de petite boîte dans lequel on peut mettre un souvenir.



28  
avril  
Sainte Valérie

Comment appelle-t-on la pièce de métal que l'on donne au gagnant d'une épreuve sportive ?

Une médaille.



Ou .....



Un médaillon de foie gras !

\* grammaire : le nombre du nom « singulier » ou « pluriel » ?

Tu as remarqué la dernière fois , que pour mettre un nom au pluriel , il suffisait de rajouter , en général, un « s » , parfois un « x »

Regarde cette vidéo :

<https://lesfondamentaux.reseau-canope.fr/video/le-nombre-du-nom-singulier-pluriel.html>

un but → cinq but**s**

une faute → plusieurs fautes**s**

un cadeau → des cadeau**x**

Souviens-toi !

Un seul	plusieurs
Le singulier	Le pluriel
le / la	les
le garçon 🧑	les garçons 🧑🧑🧑
la fille 🧒	les filles 🧒🧒🧒

Lis ces déterminants

ton	mon	le	un	des	mes
deux	vingt	plusieurs	la	les	une

puis, lis ces noms communs

crayon	cadeaux	ordinateur	bouteilles	cartable
pantalons	hiboux	papillons	robe	casquette

Mets ensemble un déterminant et un nom :


exemple :

le crayon , le ~~cadeaux~~

Ce n'est pas possible, car il y a un x à la fin de cadeaux, il faut donc écrire un déterminant au pluriel (les, mes ....)

à toi !!!! Essaie d'en trouver le plus possible ! (tu peux utiliser un nom ou un déterminant plusieurs fois)

\* grammaire/ orthographe , révisions



Comme lundi, fais 2 phrases en utilisant les étiquettes .

\* son [j] → Lis les syllabes.

Sers -toi de ces syllabes pour écrire les mots



1

2


3



4

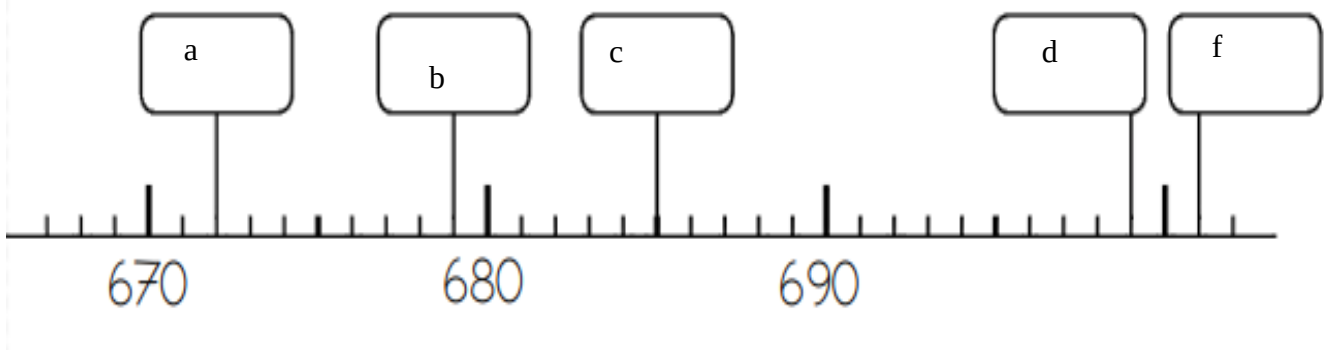
5

6



\* maths : les nombres

Écris le nombre qui convient dans chaque case.



## Ecris ces nombres en chiffres

quatre cent vingt-huit : ...<sup>a</sup>.....

cent neuf : ...<sup>b</sup>.....

deux cent treize : ...<sup>c</sup>.....

cent quarante-trois : ...<sup>d</sup>.....

trois cents : ...<sup>e</sup>.....

Ecris la suite des nombres de 1 en 1.

180									189
-----	--	--	--	--	--	--	--	--	-----

196									205
-----	--	--	--	--	--	--	--	--	-----

259									268
-----	--	--	--	--	--	--	--	--	-----

Complète avec  $<$  ou  $>$ .

235 ..... 240

96 ..... 300

290 ..... 96

568 ..... 565

735 ..... 537

757 .... 770

\* les heures : problèmes



Quelle heure sera-t-il si on ajoute 1 heure ?


Il sera : .....



Quelle heure sera-t-il si on ajoute 1 heure ?

Il sera : .....

\* Souviens-toi de la guerre du potager ! Pour repérer des cases dans un quadrillage , tu peux utiliser une lettre et un chiffre :  
Regarde cet exemple :








(B;1)





(E;2)

(E;3)

# CODE

	A	B	C	D	E	F
1						
2						
3						
4						
5						
6						

à toi de coder les cases des images suivantes :





\* lecture : à toi de lire la suite de « Kolos et les quatre voleurs » :

La nuit arrive. Un croissant de lune éclaire encore la campagne.

Le premier voleur dit à ses frères :

- J'y vais. Mais ne quittez pas des yeux la fenêtre de la cuisine :  
si tout va bien, je craquerai une allumette et vous pourrez me  
rejoindre...

Il se glisse dans la maison, entre dans la cuisine et vole la plus  
belle pomme.

Mais comme il s'apprête à sortir, une clé tombe de sa poche et  
tinte sur le sol :

« Kling kling kling... »

Le géant Kolos ne dormait qu'à moitié, parce qu'il avait mal  
aux dents.

Il se réveille tout à fait et sa voix terrible retentit :

- Qui fouille dans ma cuisine ?

Si je l'attrape, je l'écrabouille !

Tremblant de tous ses membres, le voleur s'enfuit dans la cave.

Il plonge dans un tonneau vide, claque le couvercle sur sa tête et  
ne bouge plus !

**Voilà ! Tu as terminé !!!!!**

