


Lundi 20 avril 2020

Bonjour à tous !!!!!

*** vocabulaire**

Un voileage

Un voileage est un rideau de tissu léger qui laisse passer la lumière.




Comment appelle-t-on le tissu léger qui coiffe certaines mariées ?

20
avril

Sainte Odette

Le voile.

Complète oralement avec le ou la



lecture

*** raconter avec ses mots la fin de l'histoire.**


*** lire « à toi de lire » p 57**

*** De qui s'agit-il ? Écris le numéro du ou des personnages :**

Pierre	les hommes du village	les loups	la vieille femme
1	2	3	4

- a Elle relance la course des chiens. C'est _____
- b Il est heureux d'avoir sauvé la vieille. C'est _____
- c Elle arrive au village sans problème. C'est _____
- d Il sort de sa cachette. C'est _____
- f Ils félicitent le menuisier. Ce sont _____
- g Ils se sauvent dans la forêt. Ce sont _____

* regarde bien l'image : imagine ce que la dame peut dire à Pierre et essaie de l'écrire !



* entraîne-toi à lire les mots 2 p 56







puis ces syllabes

mouille rouille douille nouille touille pouille

beille reille teil veille teille leil meil veil seil

feuille teuil reuil seuil vreuil

* Montre ce qui manque pour compléter les mots :

 ail eil euil le sol.....	 ail eil euil un faut.....	 ail eil euil un épouvant.....
 ille ouille euille une citr.....	 ille ouille euille une f.....	 aille ouille euille une méd.....


* Trouve la phrase qui va avec l'image A ou B ?????!



- A ● La fillette chatouille les orteils de sa poupée.
- B ● La fillette chatouille les oreilles de sa poupée.

* maths :

Souviens-toi !



$$5 + 5$$



« deux fois cinq »

=

$$2 \times 5$$

Écris le résultat :

$2 \times 6 = \underline{\quad}$

$2 \times 7 = \underline{\quad}$

$2 \times 3 = \underline{\quad}$

$2 \times 0 = \underline{\quad}$

$2 \times 10 = \underline{\quad}$

$2 \times 5 = \underline{\quad}$

*Calcule le plus rapidement possible !

$7 - 4 = \dots$

$6 + 4 = \dots$

$9 - 3 = \dots$

$8 + 3 = \dots$

$6 - 6 = \dots$


$8 + 4 = \dots$

$6 - 3 = \dots$

$5 - 3 = \dots$

$7 - 5 = \dots$

* Trouve le plus rapidement possible le nombre de losanges ! (observe-bien!!!)



* problème



A – Combien y a-t-il d'escargots ?

B – C'est le dîner d'un hérisson, combien en faut-il pour nourrir 4 hérissons ?

* regarde bien cette figure et reproduis-la à main levée de mémoire !

