

Jeudi 9 avril 2020,

Bonjour !!!!!

* vocabulaire : le mot du jour

Une buvette

Une buvette est un endroit où l'on peut acheter quelque chose à boire.



Change une lettre de «buvette» et trouve un synonyme de «boire».

9
avril
Saint Gautier

Buvette.

* lecture compréhension

Regarde bien l'image page 50 et lis le texte. Réponds oralement aux questions 1 p 51

1. Je réponds par **Vrai, Faux** ou je mets un **?** si l'histoire ne le dit pas.

Pierre se cache dans le tonneau. _____

Le tonneau se retrouve sur le chemin. _____

La vieille femme conduit l'attelage jusqu'au village. _____

Sans Pierre et sans le tonneau, le traîneau va plus vite. _____


Apprendre à écrire les mots en bas de page 51 : revoir chien et loup et leur pluriel + parce que

* lecture code


observe les syllabes grises dans la comptine 1 p 52 puis essaie de te souvenir que :

		 <p>oin</p> <p>ouin</p>
<p>le coin </p> <p>le babouin </p>		

puis lis les syllabes et les mots suivants :

 **Je lis des syllabes**

- loin moin soïn foïn joïn poïn coïn goïn


 **Je lis des mots**





poin	moin	coïn
un point	le poing	un coïn
pointu	le shampoing	un recoïn
une pointe	un témoïn	des coïngs

*** lis ces mots et montre le mot intrus (celui qui ne contient pas le son du jour)**


loin	pointu	joindre	témoin	poireau	recoin
pointe	goinfre	rejoindre	couloir	coincer	groin
camion	pointure	lointain	foin	moins	

*** écris les mots**

 **Écris** le mot sous chaque dessin. N'oublie pas l'article.

			
---	---	--	---

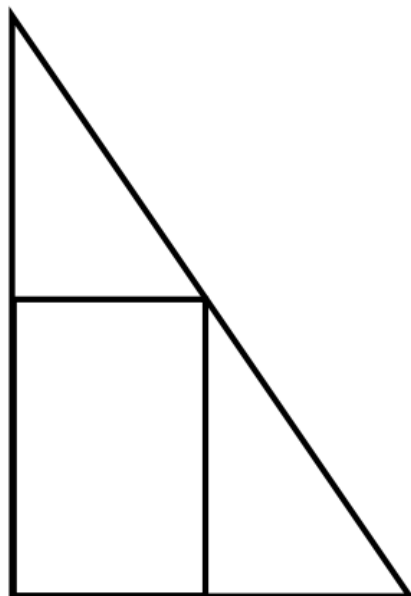
*** recopie la phrase qui correspond à l'image**

La porte ●	● a un chapeau pointu.	
Titouan ●	● est coincée.	

*** maths**

*** jeu des formes**

Comme la dernière fois, montrer la figure 30 secondes et la reproduire à main levée



*Inciter l'enfant à
utiliser du
vocabulaire
géométrique pour
décrire la figure)*

* calcul mental

CHRONOMATH 7

1	$2 + 5 = \dots$	11	$20 + 7 = \dots$
2	$8 + 1 = \dots$	12	$7 - 1 = \dots$
3	$3 + 3 = \dots$	13	$7 - 2 = \dots$
4	$7 + 2 = \dots$	14	$14 - 2 = \dots$
5	$4 + 4 = \dots$	15	$18 + \dots = 19$
6	$3 + \dots = 10$	16	$20 + 30 = \dots$
7	$4 + 6 = \dots$	17	$17 - 2 = \dots$
8	$7 + 5 = \dots$	18	$14 + 11 = \dots$
9	$10 + 4 = \dots$	19	$35 - 2 = \dots$
10	$20 + 1 = \dots$	20	$20 - 10 = \dots$

SCORE :

CP

* écrire des nombres en lettres

ers-toi des mots suivants :

soixante, dix, quatre, quatorze, sept

74 →

67 →

77 →

64 →

* problème



A – Combien faut-il de chiens pour tirer 2 traîneaux ?
B – Si j'ai 24 chiens combien puis-je tirer de traîneaux ?

Bien écrire l'
opération (ou
faire un dessin)
qui permet de
trouver la
réponse !!!

* écrire

écris les mots suivants :

un coin , un babouin

puis entoure le son du jour !!!!!

un coin , un babouin

