

Bonjour !!!

\* vocabulaire

# Une révérence

Une révérence est une manière de saluer quelqu'un en s'inclinant devant lui ou en pliant les genoux.



30  
avril

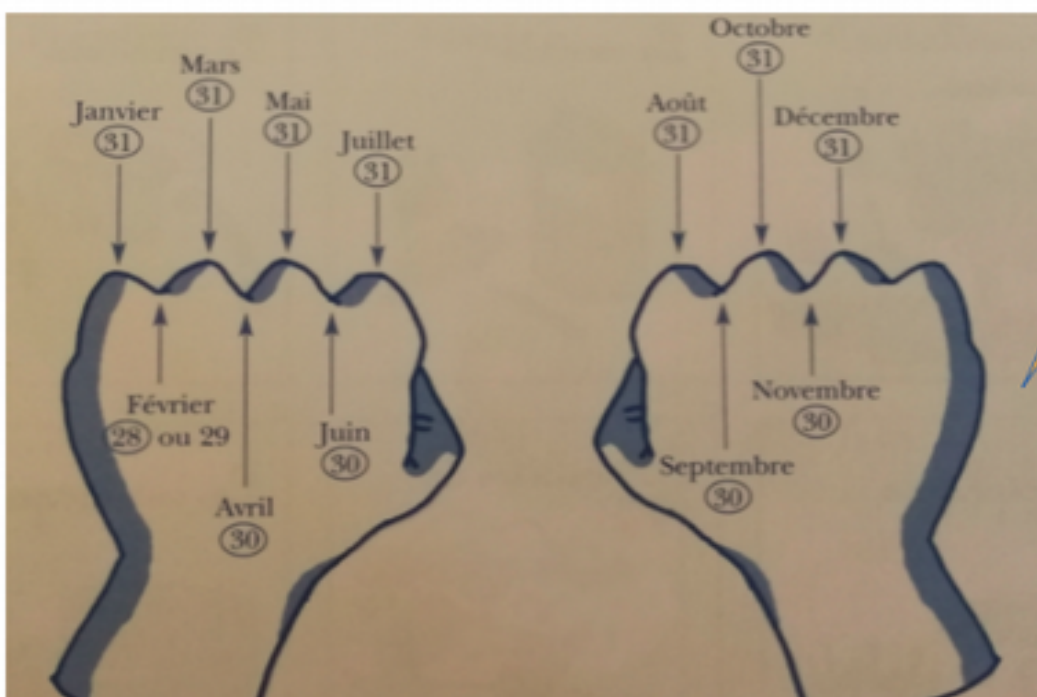
Saint Robert

Ajoute 3 lettres à « courbe » et trouve un synonyme de « petite révérence ».

Courbette.

\* le temps :

Aujourd'hui, c'est le 30 avril ..... cherche la date de demain ! Récite les mois et cherche si le mois d'avril est long (31 jours) ou court (30 jours) .



Souviens-toi de cette astuce !

\* lecture compréhension

Ouvre ton livre aux pages 66 et 67. Il y a beaucoup d'informations . Repère où tu peux répondre aux questions sur la nourriture, les déplacements ou les petits de l'ours .  
Choisis une question verte et lis le texte qui va avec . Fais-toi aider pour lire le reste.

**2. Je complète** les phrases avec l'un des deux mots proposés. Écris le mot sur ton cahier .

L'ours est un 1 solitaire. **grizzli / animal**

Quand il naît, l'ourson n'est pas plus gros qu'un 2. **saumon / rat**

L'ours 3 est le plus grand carnivore terrestre. **omnivore / polaire**

Le grizzli 4 le saumon. **chasse / dresse**

Les 5 du grizzli lui permettent de grimper aux arbres. **oreilles / griffes**

La graisse du phoque permet à l'ours polaire de faire des réserves pour l'6. **été / hiver**

\* lecture code :

			S <del>ss</del>
			ç t+i
			
un <b>s</b> erpent	un héri <b>ss</b> on		
			
un <b>ç</b> itron	un gar <b>ç</b> on	Attent <b>ç</b> ion !	

\* lis les syllabes suivantes :

## Je lis des syllabes

- ci      cin      ce      cen
- cé      ceau      cè      cy
- çoi      çan      çon      çu
- tion      tial      cil      cir

\* puis les mots :

## Je lis des mots

ci	cen	çon	tion
un citron	cent	un garçon	une addition
le cinéma	des centimes	une leçon	la natation
une cicatrice	un centimètre	un maçon	attention !

à toi ! Écris les mots sur ton cahier :

des centimes – le cinéma – un pinceau – la France – un glaçon – un médecin



a



b




c



d



e



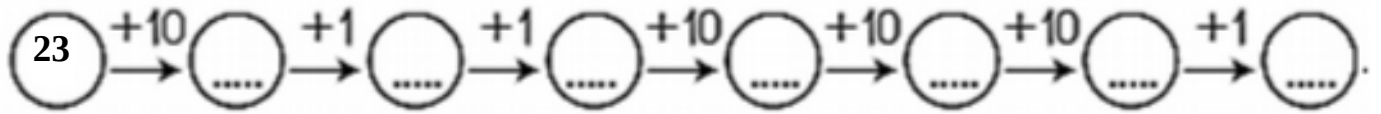
f



\* maths

calcul

complète cette chaîne de calculs (tu peux la faire sur ton cahier, fais-toi aider!)



Complète rapidement à 10 !

$$\boxed{2} + \boxed{3} + \text{.....} = 10$$

$$\boxed{5} + \boxed{1} + \text{.....} = 10$$

Encore des calculs ....attention +, - et addition à trou !!!!!

$6 + 5 = \text{.....}$

$5 - 2 = \text{.....}$

$10 - \text{.....} = 8$

$10 - 2 = \text{.....}$

$7 - 4 = \text{.....}$

$8 - 3 = \text{.....}$

$3 + \text{.....} = 10$

$5 + \text{.....} = 10$

Additions en colonnes :

1	7
+ 3	7
<hr/>	

4	9
+ 4	9
<hr/>	


\* Les nombres

Trouve le nombre de timbres :



Arthur a ..... timbres.

Ecris le nombre de points dessinés par Arthur.




Arthur a dessiné ..... points.

\* problèmes

Tu peux le faire avec de vraies images (ou des rectangles de papier)

Zoé a un paquet de 16 images.  
Elle doit mettre 2 images dans chaque enveloppe.  
**Combien d'enveloppes lui faut-il ?**



Il lui faut ..... enveloppes.

\* Si tu as encore du temps, tu peux relever ce petit défi !!!!!

**Qui mange quoi ?**

Zoé n'aime pas les ananas.

Julie ne mange pas de banane.

Léo aime les fruits rouges.

Patty mange une pomme.

**Qui mange quoi ?**



**\* écriture**

Recopie la phrase sur ton cahier :



L'ourse allaite son petit.

Mets bien un « e » car c'est la femelle.

**Je te souhaite de bonnes vacances !!!!!**