


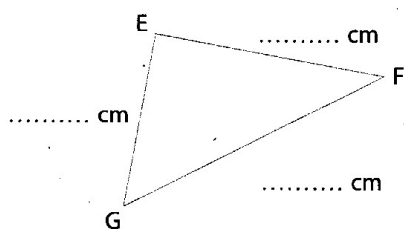
GEOMETRIE

Observe la figure et **complète** le tableau.

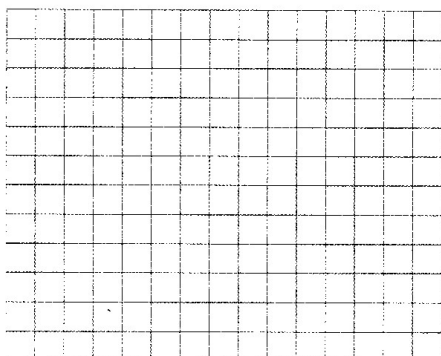


	Nombre d'angles droits	Mesure des côtés	
		Longueur	Largeur
Rectangle ABCD	AB =	BC =
		CD =	AD =

Mesure les côtés du triangle et **marque** l'angle droit avec un carré rouge. Comment cette figure s'appelle-t-elle ?



Trace un triangle rectangle dont les côtés de l'angle droit mesurent 6 cm et 5 cm.



ORTHOGRAPHE

Ecris au pluriel ou au singulier

- a. Un progrès →
- b. Du gaz →
- c. Des perdrix →
- d. Les tapis →
- e. Un permis →
- f. Des bois →
- g. Un os →

ORTHOGRAPHE

Agrandis les GN avec les adjectifs suivants :

fleuri – mûre – ancienne – intéressants- plate – noir – sales – calme

Un crayon

Une maison

Un jardin

Une mer

Une pomme

Des livres

Des mains

La règle

Que remarques-tu au sujet des adjectifs ?

NUMERATION

Range les nombres dans l'ordre décroissant.

• 2 543 / 4 543 / 3 078 / 2 432

.....

Écris le nombre qui est entre :

• 1 998 < < 2 000

• 3 999 < < 4 001


• 7 998 < < 8 000

CALCUL

Une fermière veut ranger ses œufs dans des boîtes de 6.

Combien de boîtes devra-t-elle utiliser ?

Ecris l'opération et réponds à la question.



..... :

Elle devra utiliser

LECTURE

Lire Nouné l'enfant de la Préhistoire Page 11 à 13.

