

Mardi 31 mars 2020

Bonjour on démarre une nouvelle lecture, si vous le pouvez, téléchargez le fichier complet et imprimez pour que les enfants puissent s'entraîner à lire à voix haute. Bonne journée.

LECTURE

Lecture silencieuse puis à haute voix du texte 1.

NOUNE

L'enfant de la préhistoire

Il y a très longtemps, la terre n'était peuplée que d'animaux... Un jour, l'un d'eux se dressa sur ses pattes arrières et se mit à marcher...

Les premiers hommes firent leur apparition.... Ils habitaient l'entrée des cavernes et se

nourrissaient de viande crue qu'ils réussissaient à dérober à certains animaux.

Peu à peu, ils devinrent plus adroits de leurs mains et constatèrent qu'en cassant des galets, ils

obtenaient des éclats aux arêtes coupantes. Ils trouvèrent cela pratique pour découper la viande

ainsi que pour gratter et tailler les peaux dont ils s'habillaient. Ils commencèrent alors à travailler la

Pierre pour fabriquer des outils et des armes.

Ainsi vécurent ces hommes pendant des centaines de milliers d'années... Ils découvrirent le feu qui réchauffait, qui éclairait, qui protégeait des bêtes sauvages, qui rôtissait la viande et faisait bouillir l'eau. Ils apprirent à le conserver puis à le faire.

Des milliers et des milliers d'années passèrent encore, les hommes faisaient de nouvelles trouvailles qui leur rendaient la vie moins difficile. Leur aspect changeait; il devint celui qui est le nôtre.

QUESTIONS

Recopie les questions, entoure le verbe dans la question et réponds en formulant une phrase complète.

Comment les premiers hommes firent leur apparition ?

Où habitaient les premiers hommes ?

Que mangeaient-ils ?

Que faisaient les hommes avec les clats de galets ?

Pourquoi travaillent-ils la pierre ?

Combien de temps s'est passé entre l'aspect des premiers hommes et celui d'aujourd'hui ?

Entoure la bonne réponse. Plus de 100 ans Plus de 1.000 ans Plus de 100.000 ans

Trouve un synonyme aux mots suivants :

Caverne :

Dérober :

Galet :

Complète les phrases avec et ou est :

Le galet..... fracassé sur le rocher. Ce galet..... très dur très difficile à tailler.
C'..... un outil en silex.

NUMERATION

Ecris les nombres suivants en lettres :

3 452 =

8 627 =

2 545 =

3 071 =

5 644 =

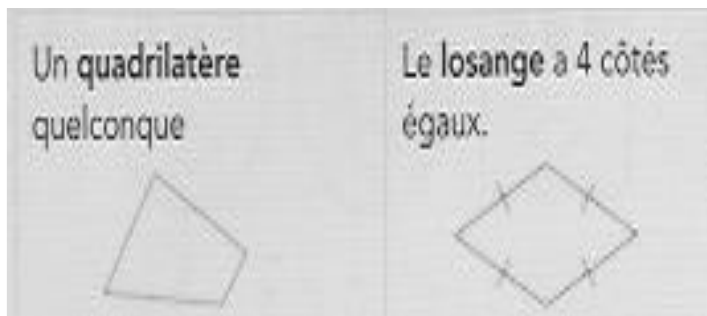
7 834 =

6 476 =

8 240 =



GEOMETRIE

Suite de la leçon sur les quadrilatères.



EXERCICES

* **Utilise** l'équerre, la règle ou le compas pour vérifier la nature de ces figures. **Écris** leur nom.



* **Recopie** et **complète** les phrases.

- Un quadrilatère qui a 4 angles droits est un
- Un quadrilatère qui n'a ni côtés égaux, ni angles droits est un
- Un rectangle qui a 4 côtés égaux est un
- Un quadrilatère qui a 4 côtés égaux est un
- Un losange qui a ses angles droits est un