

Lundi 06 avril 2020

## LECTURE

*Il faisait très sombre dans la grande caverne.*

*Les torches projetaient de grandes ombres sur les parois. Nouné n'était pas rassuré malgré la lampe de pierre qui répandait une douce lumière. Sa petite flamme dansait au bout d'une mèche tressée qui baignait dans de la graisse de renne. Malina lui expliqua que c'était la graisse qui alimentait la flamme.*

*Pah et Mougo étaient montés sur un échafaudage de bois de pin. Ils étaient si haut qu'ils touchaient le plafond de la caverne. Pah dessinait avec un bout de charbon de bois la silhouette d'un animal. Nouné le reconnaissant s'écria : « C'est un taureau, Pah a dessiné un taureau ! »*

*Mah écrasait de la terre ocre qu'elle mélangeait à de la graisse de renne pour faire les couleurs que Mougo étalait avec le pinceau fabriqué par Malina.*

*La fin de l'hiver approchait. Dans la grande caverne, Pah et Mougo avaient décoré une bonne partie du plafond et de toute une paroi. Nouné fut émerveillé. C'était si beau, si semblable à ce qu'il avait vu dans la vallée qu'il avait l'impression que les chevaux, les taureaux, les cerfs qu'il voyait là devant lui allaient bondir et s'échapper de la caverne.*

*« Quel est le plus méchant des animaux ? » interrogea le petit garçon.*

*« Aucun animal n'est méchant. Il doit tuer pour se nourrir et doit fuir pour ne pas être mangé à son tour. C'est la vie », lui répondit son père.*

*Alors il lui raconta comment les bisons fonçaient en soulevant des nuages de poussière, comment l'ours se dressait sur ses pattes pour voler le miel des abeilles,*

*comment les loups encerclaient les rennes pour mieux les chasser, comment le bouquetin grimpait là où personne n'aurait pu tenir en équilibre.*

*« Et le plus gros, c'est lequel ? » insista Nouné.*

*« C'est le mammoth, mais il vit loin d'ici dans les grandes steppes du nord. »*

*Nouné rêva un moment à ces énormes bêtes et lança une nouvelle question : « Et le plus malin ? »*

*Pah éclata de rire. « C'est l'homme. » « Mais nous n'avons ni griffes, ni crocs... » répliqua Nouné.*

*« Oui mais nous, nous savons fabriquer des outils et les armes dont nous avons besoin. Nous avons un feu et nous réfléchissons avant d'agir. »*

## Questions

O vivent les hommes pendant l'hiver ?

Comment fonctionne une lampe en pierre ?

Comment fabrique-t-on pinceaux et peintures ?

## CONJUGAISON (leçon à apprendre)

### Etre et avoir au futur

Le futur exprime un fait ou une action qui se déroulera **plus tard**.

#### être

Je	ser <b>ai</b>
Tu	serr <b>as</b>
Il, elle, on	ser <b>a</b>
Nous	ser <b>ons</b>
Vous	ser <b>ez</b>
Ils, elles	ser <b>ont</b>

#### avoir

J'	aur <b>ai</b>
Tu	aur <b>as</b>
Il, elle, on	aur <b>a</b>
Nous	aur <b>ons</b>
Vous	aur <b>ez</b>
Ils, elles	aur <b>ont</b>



Pour former le futur des verbes être et avoir, il suffit de prendre le **radical** du verbe et d'ajouter la terminaison **du futur**

**ai, as, a, ons, ez, ont**

*nous ser + ons*

*tu aur + as*

*je ser + ai*

#### Des mots qui introduisent le futur :

demain – tout à l'heure – après demain – dans un an – dans un instant

#### Complète avec le verbe être ou avoir au futur.

Les deux garçons ..... De bons amis dans peu de temps. Je n'..... plus peur dans le noir. Vous ..... satisfaits du résultat. Elle ..... les yeux de sa mère Nous.....heureux de les revoir. J'..... un bel anniversaire.

#### Relie

Tu	sera
Nous	serai
Elles	aurez
Vous	auront
Je	aurons
Il	sera

Ecris une phrase au futur avec les verbes avoir et être .

**CALCUL**

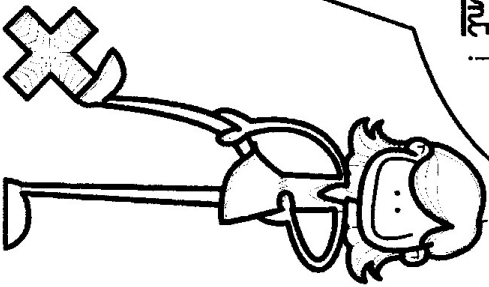
Réviser les tables et compléter.

X	1	2	3	4	5	6	7	8	9
1									
2									
3									
4									
5									
6									
7									
8									
9									

(Table de Pythagore)



**CONSEIL**

Colorie  
de la même couleur  
les produits identiques  
qui se répètent plus de 2 fois  
pour les retenir  
plus facilement !







Les angles  
de droites sont-ils perpendiculaires ?



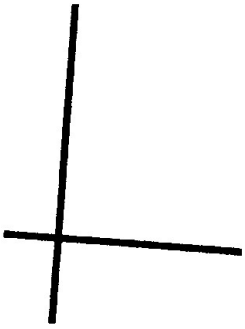
Oui Non




Oui Non



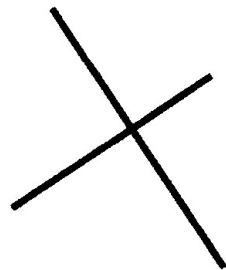
Oui Non



Oui Non





Oui Non




Oui Non


Les angles  
de droites sont-ils perpendiculaires ?



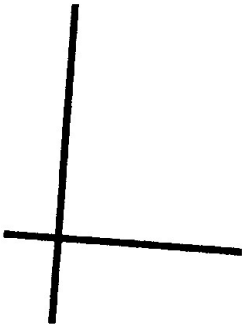
Oui Non




Oui Non



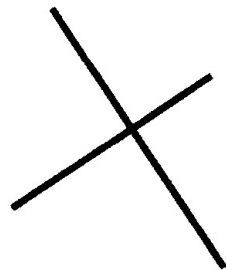
Oui Non



Oui Non



Oui Non



Oui Non