




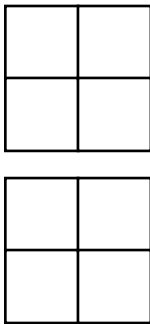
Date

A *Calcul* • Calcule la moitié pour passer d'une flaque à l'autre.

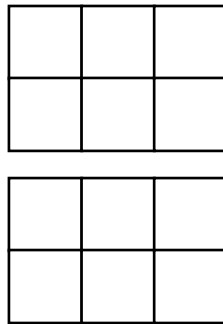


B *Numeration - Les fractions*

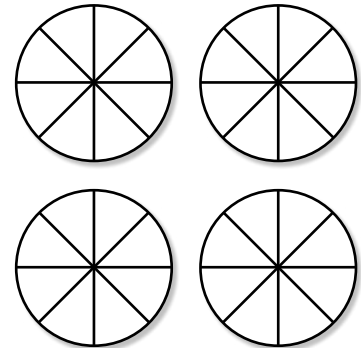
Colorie $\frac{7}{4}$ de la figure.



Colorie $\frac{8}{6}$ de la figure.



Colorie $\frac{25}{8}$ de la figure.



C *Résolution de problème*

Au magasin, Robotine a 45 billets de 10 € et 13 billets de 100 € dans sa caisse.
Quelle somme Robotine a-t-elle dans sa caisse ?

Ta recherche :



Phrase réponse : _____

